

Set-1

Series & RQPS/S

प्रश्न-पत्र कोड
Q.P. Code

59/S/1

रोल नं.
Roll No.



परीक्षार्थी प्रश्न-पत्र कोड को उत्तर-पुस्तिका के मुख-पृष्ठ पर अवश्य लिखें।

Candidates must write the Q.P. Code on the title page of the answer-book.

राजनीति विज्ञान

POLITICAL SCIENCE

निर्धारित समय : 3 घण्टे

अधिकतम अंक : 80

Time allowed : 3 hours

Maximum Marks : 80

नोट	NOTE
(I) कृपया जाँच कर लें कि इस प्रश्न-पत्र में मुद्रित पृष्ठ 23 हैं।	(I) Please check that this question paper contains 23 printed pages.
(II) कृपया जाँच कर लें कि इस प्रश्न-पत्र में 30 प्रश्न हैं।	(II) Please check that this question paper contains 30 questions.
(III) प्रश्न-पत्र में दाहिने हाथ की ओर दिए गए प्रश्न-पत्र कोड को परीक्षार्थी उत्तर-पुस्तिका के मुख-पृष्ठ पर लिखें।	(III) Q.P. Code given on the right hand side of the question paper should be written on the title page of the answer-book by the candidate.
(IV) कृपया प्रश्न का उत्तर लिखना शुरू करने से पहले, उत्तर-पुस्तिका में प्रश्न का क्रमांक अवश्य लिखें।	(IV) Please write down the serial number of the question in the answer-book before attempting it.
(V) इस प्रश्न-पत्र को पढ़ने के लिए 15 मिनट का समय दिया गया है। प्रश्न-पत्र का वितरण पूर्वाह्न में 10.15 बजे किया जाएगा। 10.15 बजे से 10.30 बजे तक छात्र केवल प्रश्न-पत्र को पढ़ेंगे और इस अवधि के दौरान वे उत्तर-पुस्तिका पर कोई उत्तर नहीं लिखेंगे।	(V) 15 minute time has been allotted to read this question paper. The question paper will be distributed at 10.15 a.m. From 10.15 a.m. to 10.30 a.m., the students will read the question paper only and will not write any answer on the answer-book during this period.

59/S/1

1

P.T.O.



सामान्य निर्देश :

निम्नलिखित निर्देशों को बहुत सावधानी से पढ़िए और उनका पालन कीजिए :

- (i) इस प्रश्न-पत्र में 30 प्रश्न हैं। सभी प्रश्न अनिवार्य हैं।
- (ii) प्रश्न-पत्र पाँच खण्डों में विभाजित है — खण्ड क, ख, ग, घ एवं ङ।
- (iii) खण्ड क – प्रश्न संख्या 1 से 12 तक बहुविकल्पीय प्रकार के प्रश्न हैं। प्रत्येक प्रश्न 1 अंक का है।
- (iv) खण्ड ख – प्रश्न संख्या 13 से 18 तक लघु-उत्तरीय प्रकार के प्रश्न हैं। प्रत्येक प्रश्न 2 अंकों का है। प्रत्येक प्रश्न का उत्तर 50 से 60 शब्दों में लिखिए।
- (v) खण्ड ग – प्रश्न संख्या 19 से 23 तक दीर्घ-उत्तरीय प्रकार-I के प्रश्न हैं। प्रत्येक प्रश्न 4 अंकों का है। प्रत्येक प्रश्न का उत्तर 100 से 120 शब्दों में लिखिए।
- (vi) खण्ड घ – प्रश्न संख्या 24 से 26 अवतरण, कार्टून तथा मानचित्र-आधारित प्रश्न हैं। प्रत्येक प्रश्न का उत्तर यथानुसार लिखिए।
- (vii) खण्ड ङ – प्रश्न संख्या 27 से 30 तक दीर्घ-उत्तरीय प्रकार-II के प्रश्न हैं। प्रत्येक प्रश्न 6 अंकों का है। प्रत्येक प्रश्न का उत्तर 170 से 180 शब्दों में लिखिए।
- (viii) प्रश्न-पत्र में कोई समग्र विकल्प नहीं है। यद्यपि कुछ प्रश्नों में आंतरिक विकल्प का प्रावधान दिया गया है। इन प्रश्नों में से केवल एक ही प्रश्न का उत्तर लिखा जाए।
- (ix) इसके अतिरिक्त, ध्यान दें कि दृष्टिबाधित परीक्षार्थियों के लिए फोटो तथा मानचित्र आदि आधारित प्रश्नों के स्थान पर एक अन्य प्रश्न दिया गया है। इन प्रश्नों के उत्तर केवल दृष्टिबाधित परीक्षार्थी ही लिखें।

खण्ड क

प्रश्न संख्या 1 से 12 तक बहुविकल्पीय प्रकार के 1 अंक के प्रश्न हैं।

12×1=12

1. निम्नलिखित घटनाओं को कालक्रमानुसार व्यवस्थित कीजिए :
 - I. गोर्बाचेव सोवियत संघ की कम्युनिस्ट पार्टी के महासचिव बने।
 - II. रूस, यूक्रेन और बेलारूस ने सोवियत संघ की समाप्ति की घोषणा की।
 - III. रूस की क्रांति।
 - IV. बर्लिन की दीवार का गिरना।सही विकल्प चुनिए।
 - (A) III, I, IV, II
 - (B) III, II, I, IV
 - (C) III, I, II, IV
 - (D) III, IV, I, II

General Instructions :

Read the following instructions very carefully and follow them :

- (i) This question paper contains **30** questions. **All** questions are **compulsory**.
- (ii) Question paper is divided into **five** sections – **Sections A, B, C, D and E**.
- (iii) **Section A** – Questions number **1 to 12** are Multiple Choice type questions. Each question carries **1** mark.
- (iv) **Section B** – Questions number **13 to 18** are Short Answer type questions. Each question carries **2** marks. Write answer to each question in **50 to 60** words.
- (v) **Section C** – Questions number **19 to 23** are Long Answer type-I questions. Each question carries **4** marks. Write answer to each question in **100 to 120** words.
- (vi) **Section D** – Questions number **24 to 26** are Passage, Cartoon and Map-based questions. Answer each question accordingly.
- (vii) **Section E** – Questions number **27 to 30** are Long Answer type-II questions. Each question carries **6** marks. Write answer to each question in **170 to 180** words.
- (viii) There is no overall choice in the question paper. However, an internal choice has been provided in few questions. Only **one** of the choices in such questions has to be attempted.
- (ix) In addition to this, note that a separate question has been provided for Visually Impaired candidates in lieu of questions having visual inputs, map etc. Such questions are to be attempted by Visually Impaired candidates only.

SECTION A

Questions number **1 to 12** are Multiple Choice type questions, carrying **1** mark each.

$12 \times 1 = 12$

1. Arrange the following events in chronological order :

- I. Gorbachev became the General Secretary of Communist Party of the Soviet Union.
- II. Russia, Ukraine and Belarus declared that Soviet Union is disbanded.
- III. Russian Revolution.
- IV. Fall of the Berlin Wall.

Choose the correct option.

- (A) III, I, IV, II
- (B) III, II, I, IV
- (C) III, I, II, IV
- (D) III, IV, I, II

2. किन मध्य एशियाई गणराज्यों के राष्ट्रपतियों ने पहले 10 वर्षों के लिए अपने को सत्ता में नियुक्त किया और फिर अपनी समय सीमा अगले 10 वर्षों के लिए बढ़ा ली ?
- (A) किर्गिजस्तान और कजाकिस्तान (B) यूक्रेन और अज़रबैजान
(C) तुर्कमेनिस्तान और उज्बेकिस्तान (D) ताजिकिस्तान और कजाकिस्तान
3. “निरस्त्रीकरण” के लिए सभी राज्यों से _____ अपेक्षा की जाती है।
- (A) कुछ विशेष प्रकार के हथियारों को त्यागने की
(B) हथियारों के अधिग्रहण या विकास को विनियमित करने की
(C) विरोधियों के साथ हथियारों के बारे में जानकारी साझा करने की
(D) सैनिक आक्रमण के विरुद्ध सुरक्षा अथवा आक्रमण रोकने के लिए आपस में सहयोग करने की
4. युद्ध, प्राकृतिक आपदा अथवा राजनीतिक उत्पीड़न के कारण देश छोड़ने वाले लोगों को निम्नलिखित में से क्या पुकारा/कहा जाता है ?
- (A) भगोड़ा (B) निर्वासित
(C) शरणार्थी (D) प्रवासी
5. सूची-I का सूची-II से सही मिलान कीजिए और उत्तर के रूप में सही विकल्प चुनिए :

सूची-I	सूची-II
1. ऊर्जा संरक्षण अधिनियम, भारत	(i) 1975
2. बिजली अधिनियम, भारत	(ii) 1992
3. पृथ्वी सम्मेलन	(iii) 2001
4. वर्ल्ड काउंसिल ऑफ इंडिजिनस पीपल (मूलवासियों)	(iv) 2003

विकल्प :

- (A) 1-(iv), 2-(i), 3-(iii), 4-(ii)
(B) 1-(iii), 2-(iv), 3-(ii), 4-(i)
(C) 1-(ii), 2-(iii), 3-(i), 4-(iv)
(D) 1-(i), 2-(ii), 3-(iv), 4-(iii)

2. The Presidents of which Central Asian Republics appointed themselves to power first for ten years and then extended their term for another ten years ?
- (A) Kyrgyzstan and Kazakhstan (B) Ukraine and Azerbaijan
 (C) Turkmenistan and Uzbekistan (D) Tajikistan and Kazakhstan
3. “Disarmament” requires all states to _____.
- (A) give up certain kinds of weapons
 (B) regulate the acquisition or development of weapons
 (C) share information about arms with rivals
 (D) coordinate their actions to deter or defend against military attack
4. People who flee from war, natural disaster or political persecution are called _____.
- (A) Fugitives (B) Expatriates
 (C) Refugees (D) Migrants
5. Match the List-I with List-II and choose the correct option as answer :

<i>List-I</i>	<i>List-II</i>
1. The Energy Conservation Act, India	(i) 1975
2. The Electricity Act, India	(ii) 1992
3. Earth Summit	(iii) 2001
4. World Council of Indigenous Peoples	(iv) 2003

Options :

- (A) 1-(iv), 2-(i), 3-(iii), 4-(ii)
 (B) 1-(iii), 2-(iv), 3-(ii), 4-(i)
 (C) 1-(ii), 2-(iii), 3-(i), 4-(iv)
 (D) 1-(i), 2-(ii), 3-(iv), 4-(iii)



6. इस प्रश्न के लिए, दो कथन दिए गए हैं — जिनमें एक को अभिकथन (A) तथा दूसरे को कारण (R) द्वारा अंकित किया गया है। इन कथनों को ध्यान से पढ़िए और नीचे दिए गए विकल्पों (A), (B), (C) और (D) में से उत्तर के रूप में सही विकल्प चुनिए।

अभिकथन (A) : साझी संपदा के संसाधन पूरी दुनिया में आकार, गुणवत्ता और गरीबों के लिए उनकी उपलब्धता के आधार पर घट रहे हैं।

कारण (R) : साझी संपदा के निम्नीकरण के लिए कई कारक जैसे निजीकरण, गहनतर खेती, जनसंख्या वृद्धि और पारिस्थितिकी तंत्र की गिरावट उत्तरदायी हैं।

विकल्प :

- (A) अभिकथन (A) और कारण (R) दोनों सही हैं और कारण (R), अभिकथन (A) की सही व्याख्या करता है।
- (B) अभिकथन (A) और कारण (R) दोनों सही हैं, परन्तु कारण (R), अभिकथन (A) की सही व्याख्या नहीं करता है।
- (C) अभिकथन (A) सही है, परन्तु कारण (R) गलत है।
- (D) अभिकथन (A) गलत है, परन्तु कारण (R) सही है।
7. निम्नलिखित में से कौन-सी राजनीतिक पार्टी पहली लोकसभा में मुख्य विपक्षी पार्टी थी ?
- (A) कम्युनिस्ट पार्टी ऑफ इंडिया
- (B) भारतीय जनसंघ
- (C) सोशलिस्ट पार्टी
- (D) काँग्रेस सोशलिस्ट पार्टी

8. भारत में कौन-से वर्ष पूरे देश में इलेक्ट्रॉनिक वोटिंग मशीन (EVM) का प्रयोग शुरू किया गया ?

- (A) 2001 (B) 2002
- (C) 2003 (D) 2004

9. भारत और चीन ने पंचशील समझौते पर हस्ताक्षर किस वर्ष में किए थे ?

- (A) 1950 (B) 1952
- (C) 1954 (D) 1956

6. For this question, two statements are given — one labelled as Assertion (A) and the other labelled as Reason (R). Read these statements carefully and choose the correct option as the answer from the options (A), (B), (C) and (D) given below.

Assertion (A) : Common property resources have dwindled in size, quality and availability to the poor in much of the world.

Reason (R) : A combination of factors including privatisation, agricultural intensification, population growth and ecosystem degradation are responsible for degradation of common property.

Options :

- (A) Both Assertion (A) and Reason (R) are true and Reason (R) is the correct explanation of the Assertion (A).
- (B) Both Assertion (A) and Reason (R) are true, but Reason (R) is *not* the correct explanation of the Assertion (A).
- (C) Assertion (A) is true, but Reason (R) is false.
- (D) Assertion (A) is false, but Reason (R) is true.
7. Which one of the following political parties was the main opposition party in the first Lok Sabha ?
- (A) Communist Party of India
- (B) Bharatiya Jana Sangh
- (C) Socialist Party
- (D) Congress Socialist Party
8. In which year did India start using the Electronic Voting Machines (EVM) throughout the entire country ?
- (A) 2001 (B) 2002
- (C) 2003 (D) 2004
9. In which year did India and China sign the Panchsheel Agreement ?
- (A) 1950 (B) 1952
- (C) 1954 (D) 1956

10. इस प्रश्न के लिए, दो कथन दिए गए हैं — जिनमें एक को अभिकथन (A) तथा दूसरे को कारण (R) द्वारा अंकित किया गया है। इन कथनों को ध्यान से पढ़िए और नीचे दिए गए विकल्पों (A), (B), (C) और (D) में से उत्तर के रूप में सही विकल्प चुनिए।

अभिकथन (A) : असम से एक जनजातीय राज्य के बजाय अनेक राज्य अलग करके बनाए गए।

कारण (R) : प्रमुख जनजातीय समुदायों के नेता असम से अलग होना चाहते थे।

विकल्प :

- (A) अभिकथन (A) और कारण (R) दोनों सही हैं और कारण (R), अभिकथन (A) की सही व्याख्या करता है।
- (B) अभिकथन (A) और कारण (R) दोनों सही हैं, परन्तु कारण (R), अभिकथन (A) की सही व्याख्या नहीं करता है।
- (C) अभिकथन (A) सही है, परन्तु कारण (R) गलत है।
- (D) अभिकथन (A) गलत है, परन्तु कारण (R) सही है।
11. 1955 में एफ्रो-एशियन कॉन्फ्रेंस निम्नलिखित में से किस स्थान पर हुई थी ?
- (A) जकार्ता (B) बांडुंग
- (C) बाली (D) जावा

12. दिमसा समुदाय भारत के किस राज्य से सम्बन्ध रखता है ?

- (A) मिज़ोरम
- (B) त्रिपुरा
- (C) असम
- (D) मणिपुर

खण्ड ख

13. बांग्लादेश के निर्माण से पूर्व, पूर्वी पाकिस्तान में लोगों द्वारा पश्चिम पाकिस्तान के विरोध के कोई दो कारण स्पष्ट कीजिए। 2
14. समकालीन विश्व में 'वैश्विक गरीबी' किस प्रकार सुरक्षा के लिए खतरे का एक नया स्रोत है ? स्पष्ट कीजिए। 2

10. For this question, two statements are given – one labelled as Assertion (A) and the other labelled as Reason (R). Read these statements carefully and choose the correct option as the answer from the options (A), (B), (C) and (D) given below.

Assertion (A) : Instead of one tribal state, several states got carved out of Assam.

Reason (R) : Leaders of the major tribal communities wanted to separate from Assam.

Options :

- (A) Both Assertion (A) and Reason (R) are true and Reason (R) is the correct explanation of the Assertion (A).
- (B) Both Assertion (A) and Reason (R) are true, but Reason (R) is *not* the correct explanation of the Assertion (A).
- (C) Assertion (A) is true, but Reason (R) is false.
- (D) Assertion (A) is false, but Reason (R) is true.
11. Where was the Afro-Asian Conference held in 1955 ?
- (A) Jakarta (B) Bandung
- (C) Bali (D) Java
12. To which state of India does the Dimasa community belong ?
- (A) Mizoram
- (B) Tripura
- (C) Assam
- (D) Manipur

SECTION B

13. Explain any two reasons for protests by the people of East Pakistan against West Pakistan prior to the creation of Bangladesh. 2
14. How is 'global poverty' a new source of threat to security in the contemporary world ? Explain. 2

15. भारत में नियोजित विकास की ज़रूरत पर सहमति बनाने में सहयोग देने वाले किन्हीं दो कारकों को उजागर कीजिए। 2
16. 1952 में पहला आम चुनाव करवाना, भारत के चुनाव आयोग के लिए एक चुनौतीपूर्ण कार्य क्यों था ? स्पष्ट कीजिए। 2
17. आर्थिक वृद्धि और लोकतंत्र किस प्रकार भारत को अधिक सुरक्षा प्रदान करने में सहायक हैं ? स्पष्ट कीजिए। 2
18. भारत के ऐसे किन्हीं चार प्रधानमंत्रियों के नाम लिखिए, जो एक वर्ष से कम समय के लिए सत्ता में रहे। 2

खण्ड ग

19. 1962 के चीन के आक्रमण का भारत की राजनीतिक स्थिति पर हुए प्रभाव का विश्लेषण कीजिए। 4
20. सोवियत संघ के विघटन के कोई दो कारण स्पष्ट कीजिए। 4
21. (क) “भारत के भूटान के साथ अति विशिष्ट सम्बन्ध हैं।” दो उदाहरणों की सहायता से कथन की पुष्टि कीजिए। 4

अथवा

- (ख) भारत की अपने छोटे पड़ोसी देशों के साथ समस्याओं के किन्हीं दो कारणों का विश्लेषण कीजिए। 4
22. (क) वैश्वीकरण का विरोध करने में भारत की भूमिका की व्याख्या कीजिए। 4

अथवा

- (ख) वैश्वीकरण के संदर्भ में राज्यों की बदलती हुई भूमिका की व्याख्या कीजिए। 4
23. “क्षेत्रीय आकांक्षाएँ लोकतांत्रिक राजनीति का एक अभिन्न अंग हैं।” कथन को न्यायोचित ठहराइए। 4

15. Highlight any two factors that contributed towards the development of consensus around the need for planned development in India. 2
16. Why was holding of the first general elections in 1952 a great challenge for the Election Commission of India ? Explain. 2
17. How do economic growth and democracy help India in providing greater security ? Explain. 2
18. Name any four Prime Ministers of India who remained in power for less than a year. 2

SECTION C

19. Analyse the impact of the Chinese Invasion of 1962 on the political situation in India. 4
20. Explain any two reasons for disintegration of the Soviet Union. 4
21. (a) "India enjoys a very special relationship with Bhutan." Support the statement with two examples. 4

OR

- (b) Analyse any two reasons for the problems that India has with its smaller neighbours. 4
22. (a) Explain India's role in resisting globalisation. 4

OR

- (b) Explain the changing role of states in the light of globalisation. 4
23. "Regional aspirations are very much a part of democratic politics." Justify the statement. 4



खण्ड घ

24. दिए गए अवतरण को ध्यान से पढ़िए और नीचे दिए गए प्रश्नों के उत्तर लिखिए : 4×1=4

‘साझी संपदा’ उन संसाधनों को कहते हैं जिन पर कोई एक नहीं, बल्कि पूरे समुदाय का अधिकार होता है। यह एक ‘कॉमन रूम’ या ‘सामुदायिक केन्द्र’, पार्क या नदी हो सकता है। इसी तरह विश्व के कुछ हिस्से अथवा क्षेत्र ऐसे भी हैं जो किसी एक देश के संप्रभु क्षेत्राधिकार से बाहर होते हैं। इसीलिए उनका प्रबंधन साझे तौर पर अन्तर्राष्ट्रीय समुदाय द्वारा किया जाता है। इन्हें ‘वैश्विक संपदा’ कहा जाता है।

- (i) निम्नलिखित में से कौन-सा पहलू ‘वैश्विक संपदा’ का सबसे अच्छा वर्णन करता है ?
- (A) केवल वैज्ञानिक अनुसंधान के लिए उपलब्ध संसाधन।
(B) एकल राष्ट्र के अधिकार-क्षेत्र के तहत संसाधन।
(C) विकसित देशों के प्रबंधन के बाहर संसाधन।
(D) अन्तर्राष्ट्रीय समुदाय के साझा प्रबंधन के तहत संप्रभु क्षेत्र।
- (ii) 1992 के रियो सम्मेलन को _____ नाम से भी जाना जाता है।
- (A) ग्लोबल सम्मेलन (B) ग्रह सम्मेलन
(C) पृथ्वी सम्मेलन (D) विश्व सम्मेलन
- (iii) ‘वैश्विक संपदा’ के प्रबंधन के लिए अन्तर्राष्ट्रीय सहयोग क्यों आवश्यक है ?
निम्नलिखित में से सर्वोपयुक्त विकल्प का चयन कीजिए :
- (A) संसाधन प्रचुर मात्रा में हैं और स्वयं-पुनःपूर्ति करने वाले हैं।
(B) अन्य देशों के संसाधनों को साझा करने के राजनीतिक लाभ हैं।
(C) देश अपने-अपने संसाधनों का प्रबंधन कर सकते हैं।
(D) सतत विकास के प्रति दृष्टिकोण सभी के लिए समान है।
- (iv) निम्नलिखित में से, देशों के किस जोड़े को क्योटो प्रोटोकॉल की बाध्यताओं से छूट दी गई थी ?
- (A) चीन और रूस (B) चीन और भारत
(C) चीन और संयुक्त राज्य अमरीका (D) भारत और फ्रांस



SECTION D

24. Read the given passage carefully and answer the questions that follow : 4×1=4

‘Commons’ are those resources which are not owned by anyone but rather shared by a community. This could be a ‘common room’ or a ‘community centre’, a park or a river. Similarly, there are some areas or regions of the world which are located outside the sovereign jurisdiction of any one state and therefore, require common governance by the international community. These are known as ‘Global Commons’.

(i) Which one of the following aspects best describes the ‘Global Commons’ ?

- (A) Resources only accessible for scientific research.
- (B) Resources under the jurisdiction of a single nation.
- (C) Resources located outside the governance of developed nations.
- (D) Sovereign regions under the common governance of international community.

(ii) The Rio Summit of 1992 is also known as _____.

- (A) Global Summit
- (B) Planet Summit
- (C) Earth Summit
- (D) World Summit

(iii) Why is the international cooperation essential for managing the ‘Global Commons’ ?

Choose the most suitable option from the following :

- (A) Resources are abundant and self-replenishing.
- (B) There are political benefits for sharing resources of other countries.
- (C) Individual countries can manage their resources.
- (D) The approach towards sustainable development is common for all.

(iv) Which of the following pair of countries was exempted from the requirements of the Kyoto Protocol ?

- (A) China and Russia
- (B) China and India
- (C) China and USA
- (D) India and France



25. भारत के दिए गए राजनीतिक रेखा-मानचित्र (पृष्ठ 15 पर), में चार राज्यों को (A), (B), (C) और (D) के द्वारा अंकित किया गया है। नीचे दी गई जानकारी के आधार पर, इन राज्यों की पहचान कीजिए और अपनी उत्तर-पुस्तिका में इनके सही नाम, प्रयोग की गई जानकारी की क्रम संख्या तथा मानचित्र में दिया गया संबंधित अक्षर, नीचे दी गई तालिका के रूप में लिखिए :

4×1=4

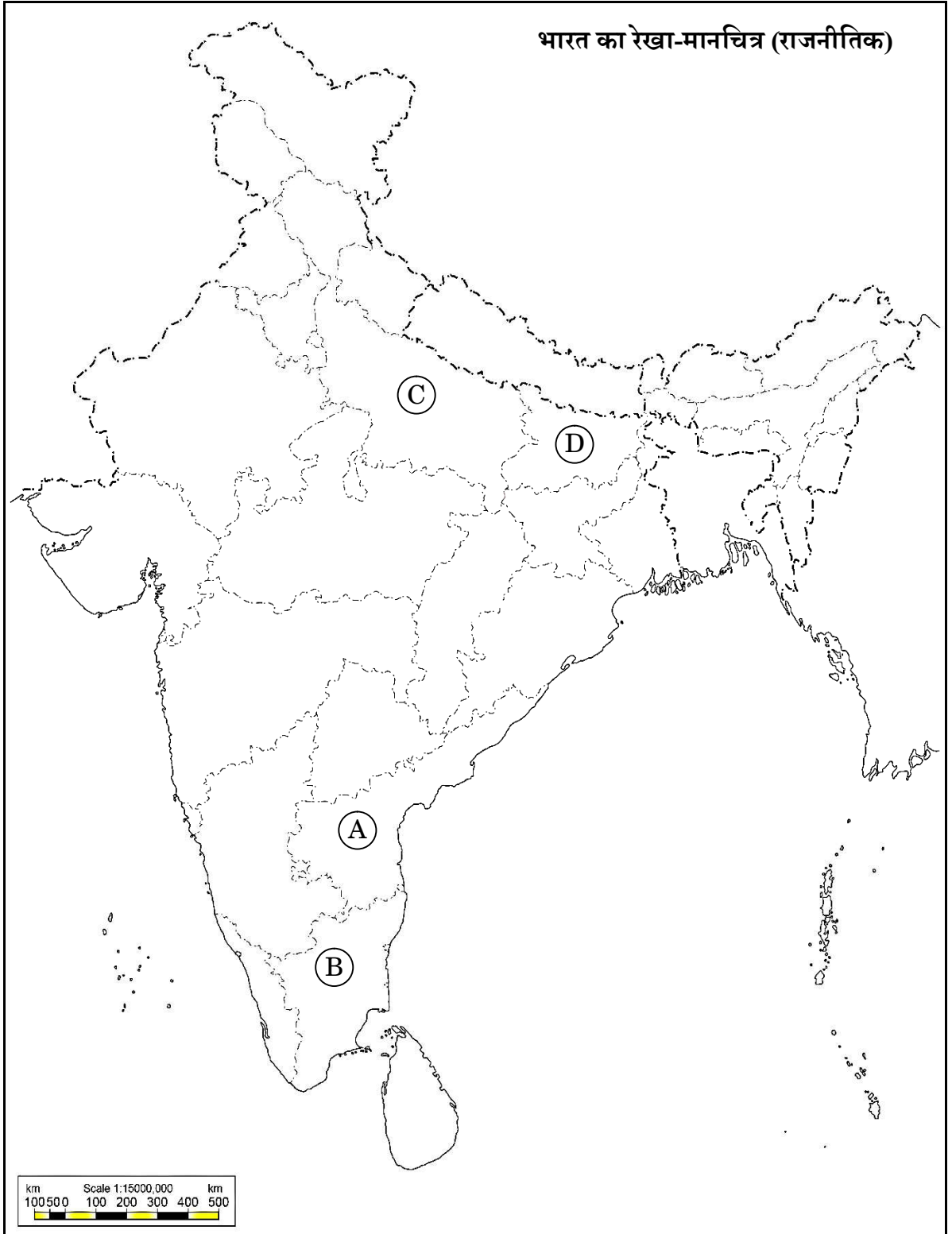
प्रयोग की गई जानकारी की क्रम संख्या	मानचित्र में दिया गया संबंधित अक्षर	राज्य का नाम
(i)		
(ii)		
(iii)		
(iv)		

- (i) वह राज्य जिससे पूर्व प्रधानमंत्री लाल बहादुर शास्त्री का संबंध था।
(ii) वह राज्य जिससे पूर्व मुख्यमंत्री कर्पूरी ठाकुर का संबंध था।
(iii) वह राज्य जिससे पूर्व मुख्यमंत्री सी. नटराजन अन्नादुरई का संबंध था।
(iv) वह राज्य जिससे भारत के पूर्व राष्ट्रपति वी.वी. गिरि का संबंध था।

नोट : निम्नलिखित प्रश्न केवल दृष्टिबाधित परीक्षार्थियों के लिए प्रश्न संख्या 25 के स्थान पर हैं : 4×1=4

- (25.1) उस राज्य का नाम लिखिए जिससे भारत के पूर्व राष्ट्रपति वी.वी. गिरि का संबंध था।
(25.2) उस राज्य का नाम लिखिए जिससे पूर्व मुख्यमंत्री के. कामराज का संबंध था।
(25.3) उस राज्य का नाम लिखिए जिससे पूर्व मुख्यमंत्री कर्पूरी ठाकुर का संबंध था।
(25.4) उस राज्य का नाम लिखिए जिससे पूर्व प्रधानमंत्री लाल बहादुर शास्त्री का संबंध था।

प्रश्न सं. 25 के लिए



59/S/1

15

P.T.O.



25. In the given political outline map of **India** (on page 17), four States have been marked as (A), (B), (C) and (D). Identify these States on the basis of the information given below and write their correct names in your answer-book along with the respective serial number of the information used and the concerned alphabets given in the map as per the following format :

4×1=4

Serial number of the information used	Concerned alphabet given in the map	Name of the State
(i)		
(ii)		
(iii)		
(iv)		

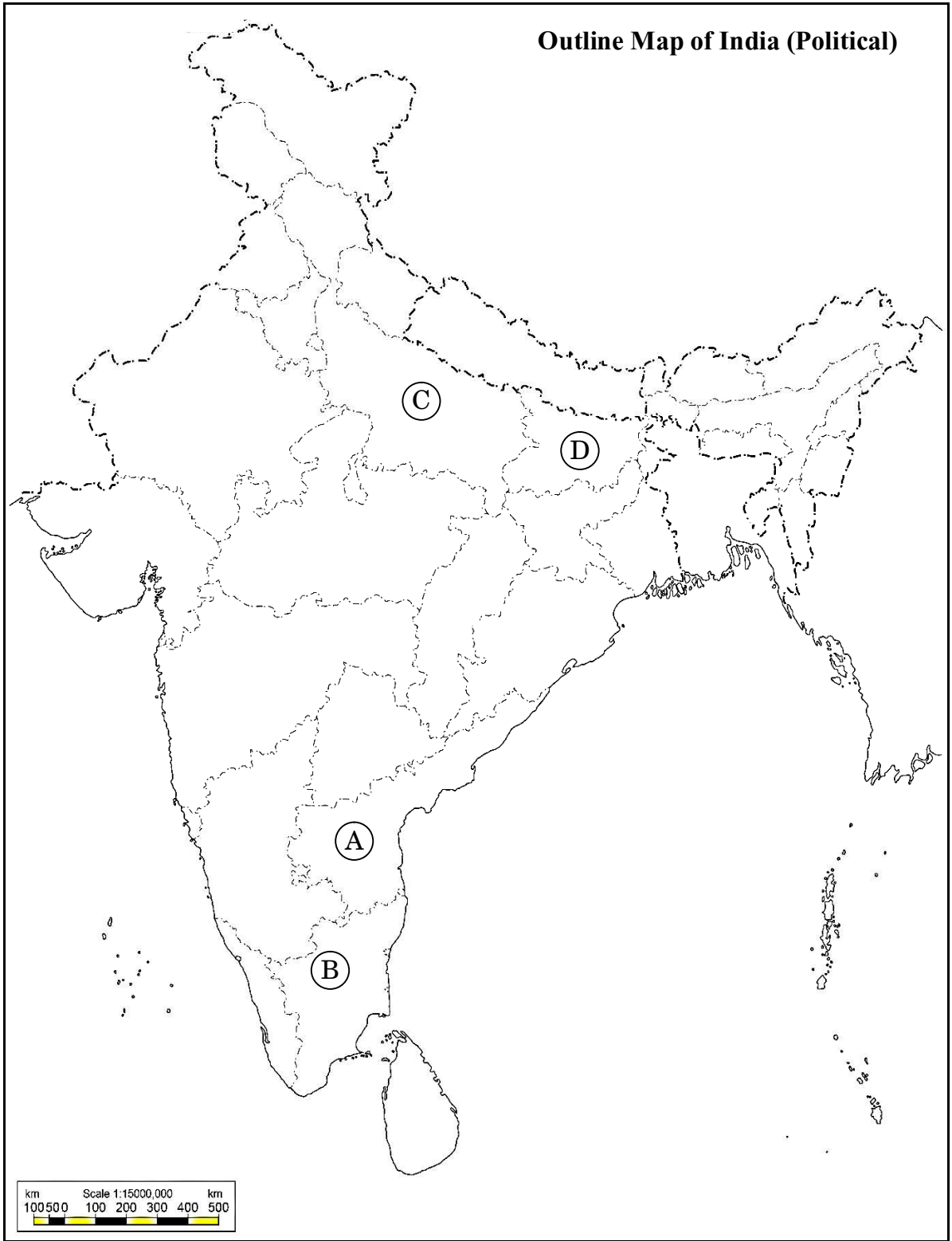
- (i) The State to which the former Prime Minister Lal Bahadur Shastri belonged.
- (ii) The State to which the former Chief Minister Karpoori Thakur belonged.
- (iii) The State to which the former Chief Minister C. Natarajan Annadurai belonged.
- (iv) The State to which the former President of India V.V. Giri belonged.

Note : The following questions are for the **Visually Impaired Candidates** only, in lieu of Q. No. 25 :

4×1=4

- (25.1) Name the State to which the former President of India V.V. Giri belonged.
- (25.2) Name the State to which the former Chief Minister K. Kamaraj belonged.
- (25.3) Name the State to which the former Chief Minister Karpoori Thakur belonged.
- (25.4) Name the State to which the former Prime Minister Lal Bahadur Shastri belonged.

For question no. 25



26. नीचे दिए गए कार्टून का अध्ययन कीजिए और निम्नलिखित प्रश्नों के उत्तर दीजिए।
(चीन से संबंधित कार्टून है)

1+1+2=4




- (i) 'लाल किताब' को हाथ में पकड़े हुए नेता को पहचान कर उसका नाम लिखिए।
- (ii) चीन में 'लाल किताब' (तब) से 'लाल टाई' (अब) तक आने में क्या वैचारिक परिवर्तन हुआ ?
- (iii) चीन में 'तब' और 'अब' के बीच हुए किन्हीं दो आर्थिक परिवर्तनों की व्याख्या कीजिए।

26. Study the cartoon given below and answer the questions that follow.

1+1+2=4

(The cartoon is related to China)



- (i) Identify and name the leader who is holding the 'Red Book'.
- (ii) What ideological change took place in China from the 'Red Book' (Then) to the 'Red Tie' (Now) ?
- (iii) Explain any two economic changes that took place in China between 'then' and 'now'.

नोट : निम्नलिखित प्रश्न केवल दृष्टिबाधित परीक्षार्थियों के लिए प्रश्न संख्या 26 के स्थान पर हैं : 1+1+2=4

(26.1) चीन में कृषि का निजीकरण किस वर्ष लागू किया गया था ?

(26.2) चीन में साम्यवादी क्रान्ति का नेतृत्व करने वाले नेता का नाम लिखिए।

(26.3) चीनी अर्थव्यवस्था के उत्थान के लिए जिम्मेदार किन्हीं दो कारकों की व्याख्या कीजिए।

खण्ड ड

27. (क) यूरोपीय संघ का एक आर्थिक संघ से बदलकर एक ज्यादा से ज्यादा राजनैतिक और सैन्य संघ का रूप लेने की विकास प्रक्रिया का वर्णन कीजिए। 6

अथवा

(ख) 'आसियान' के किन्हीं तीन उद्देश्यों का वर्णन कीजिए। 6

28. (क) समकालीन विश्व में संयुक्त राष्ट्र की प्रासंगिकता की व्याख्या कीजिए। 6

अथवा

(ख) "सुरक्षा परिषद में समान प्रतिनिधित्व की कमी है।"
उपर्युक्त कथन के संदर्भ में, संयुक्त राष्ट्र की पुनर्रचना की आवश्यकता को स्पष्ट कीजिए। 6

29. (क) 1947 में ब्रिटिश इंडिया के विभाजन के किन्हीं चार परिणामों का विश्लेषण कीजिए। 6

अथवा

(ख) मणिपुर के भारतीय संघ में विलय के लिए उत्तरदायी घटनाओं का विश्लेषण कीजिए। 6



Note : The following questions are for the **Visually Impaired Candidates** only, in lieu of Q. No. 26 : 1+1+2=4

- (26.1) In which year was the privatisation of agriculture introduced in China ?
- (26.2) Name the leader who led the Communist revolution in China.
- (26.3) Explain any two factors responsible for the growth of Chinese economy.

SECTION E

27. (a) Describe the process of evolution of European Union from an economic union to an increasingly political and military bloc. 6

OR

- (b) Describe any three objectives of the ASEAN. 6

28. (a) Explain the relevance of the United Nations in the contemporary world. 6

OR

- (b) “The Security Council lacks equitable representation.”
- In the light of the above statement, explain the need for restructuring the United Nations. 6

29. (a) Analyse any four consequences of the partition of British India in 1947. 6

OR

- (b) Analyse the events that led to the merger of Manipur into the Union of India. 6



30. (क) 1989 से 1999 के बीच भारत में घटी किन्हीं चार प्रमुख राजनीतिक घटनाओं का वर्णन कीजिए। 6

अथवा

(ख) भारत की अधिकांश राजनीतिक पार्टियों के बीच उभरी सहमति के किन्हीं चार मुद्दों का वर्णन कीजिए। 6



30. (a) Describe any four major political developments that took place in India from 1989 to 1999. 6

OR

- (b) Describe any four issues on which consensus has emerged among most political parties of India. 6



अंकन योजना
विषय:राजनीति विज्ञान (028) प्रश्न पत्र कोड :59/S/1
पूरक परीक्षा,2024

General Instructions: -

1	You are aware that evaluation is the most important process in the actual and correct assessment of the candidates. A small mistake in evaluation may lead to serious problems which may affect the future of the candidates, education system and teaching profession. To avoid mistakes, it is requested that before starting evaluation, you must read and understand the spot evaluation guidelines carefully.
2	“Evaluation policy is a confidential policy as it is related to the confidentiality of the examinations conducted, Evaluation done and several other aspects. Its’ leakage to public in any manner could lead to derailment of the examination system and affect the life and future of millions of candidates. Sharing this policy/document to anyone, publishing in any magazine and printing in News Paper/Website etc may invite action under various rules of the Board and IPC.”
3	Evaluation is to be done as per instructions provided in the Marking Scheme. It should not be done according to one’s own interpretation or any other consideration. Marking Scheme should be strictly adhered to and religiously followed. However, while evaluating, answers which are based on latest information or knowledge and/or are innovative, they may be assessed for their correctness otherwise and due marks be awarded to them. In class-X, while evaluating two competency based questions, please try to understand given answer and even if reply is not from marking scheme but correct competency is enumerated by the candidate, marks should be awarded.
4	The Marking scheme carries only suggested value points for the answers These are in the nature of Guidelines only and do not constitute the complete answer. The students can have their own expression and if the expression is correct, the due marks should be awarded accordingly.
5	The Head-Examiner must go through the first five answer books evaluated by each evaluator on the first day, to ensure that evaluation has been carried out as per the instructions given in the Marking Scheme. . If there is any variation, the same should be zero after deliberation and discussion. The remaining answer books meant for evaluation shall be given only after ensuring that there is no significant variation in the marking of individual evaluators.
6	Evaluators will mark(✓) wherever answer is correct. For wrong answer CROSS ‘X’ be marked. Evaluators will not put right(✓) while evaluating which gives an impression that answer is correct and no marks are awarded. This is most common mistake which evaluators are committing.
7	If a question has parts, please award marks on the right-hand side for each part. Marks awarded for different parts of the question should then be totaled up and written in the left-hand margin and encircled. This may be followed strictly.
8	If a question does not have any parts, marks must be awarded in the left-hand margin and encircled. This may also be followed strictly.
9	If a student has attempted an extra question, answer of the question deserving more marks should be retained and the other answer scored out with a note " Extra Question ".
10	No marks to be deducted for the cumulative effect of an error. It should be penalized only once
11	A full scale of marks 80 marks given in Question Paper has to be used. Please do not hesitate to award full marks if the answer deserves it.



12	Every examiner has to necessarily do evaluation work for full working hours i.e. 8 hours every day and evaluate 20 answer books per day in main subjects and 25 answer books per day in other subjects (Details are given in Spot Guidelines).
13	<p>Ensure that you do not make the following common types of errors committed by the Examiner in the past:-</p> <ul style="list-style-type: none"> • Leaving answer or part thereof unassessed in an answer book. • Giving more marks for an answer than assigned to it. • Wrong totaling of marks awarded on an answer. • Wrong transfer of marks from the inside pages of the answer book to the title page. • Wrong question wise totaling on the title page. • Wrong totaling of marks of the two columns on the title page. • Wrong grand total. • Marks in words and figures not tallying/not same. • Wrong transfer of marks from the answer book to online award list. • Answers marked as correct, but marks not awarded. (Ensure that the right tick mark is correctly and clearly indicated. It should merely be a line. Same is with the X for incorrect answer.) • Half or a part of answer marked correct and the rest as wrong, but no marks awarded.
14	While evaluating the answer books if the answer is found to be totally incorrect, it should be marked as cross (X) and awarded zero (0)Marks.
15	Any un assessed portion, non-carrying over of marks to the title page, or totaling error detected by the candidate shall damage the prestige of all the personnel engaged in the evaluation work as also of the Board. Hence, in order to uphold the prestige of all concerned, it is again reiterated that the instructions be followed meticulously and judiciously.
16	The Examiners should acquaint themselves with the guidelines given in the “ Guidelines for spot Evaluation ” before starting the actual evaluation.
17	Every Examiner shall also ensure that all the answers are evaluated, marks carried over to the title page, correctly totaled and written in figures and words.
18	The candidates are entitled to obtain photocopy of the Answer Book on request on payment of the prescribed processing fee. All Examiners/Additional Head Examiners/Head Examiners are once again reminded that they must ensure that evaluation is carried out strictly as per value points for each answer as given in the Marking Scheme.



	खंड-क	पृष्ठ	अंक	कुल
1.	निम्नलिखित घटनाओं को कालक्रमानुसार व्यवस्थित कीजिए I. गोर्बाचेव सोवियत संघ की कम्युनिस्ट पार्टी के महासचिव बने । II. रूस, यूक्रेन और बेलारूस ने सोवियत संघ की समाप्ति की घोषणा की। III. रूस की क्रांति। IV. बर्लिन की दीवार का गिरना । सही विकल्प चुनें। (A) III, I, IV, II (B) III, II, I, IV (C) III, I, II, IV (D) III, IV, I, II		1	
उत्तर	(A) III, I, IV, II	P-3- I	1	
2.	किन मध्य एशियाई गणराज्यों के राष्ट्रपतियों ने पहले 10 वर्षों के लिए अपने को सत्ता में नियुक्त किया और फिर अपनी समय सीमा अगले 10 वर्षों के लिए बढ़ा ली ? (A) किर्गिजस्तान और कजाकिस्तान (B) यूक्रेन और अज़रबैजान (C) तुर्कमेनिस्तान और उज्बेकिस्तान (D) ताजिकिस्तान और कजाकिस्तान		1	
उत्तर	(C) तुर्कमेनिस्तान और उज्बेकिस्तान	P- 10-I	1	
3.	"निरस्त्रीकरण" के लिए सभी राज्यों से _____ अपेक्षा की जाती है। (A) कुछ विशेष प्रकार के हथियारों को त्यागने की (B) हथियारों के अधिग्रहण या विकास को विनियमित करने की (C) विरोधियों के साथ हथियारों के बारे में जानकारी साझा करने की (D) सैनिक आक्रमण के विरुद्ध सुरक्षा अथवा आक्रमण रोकने के लिए आपस में सहयोग करने की		1	
उत्तर	(A) कुछ विशेष प्रकार के हथियारों को त्यागने की	P- 69-I	1	
4.	युद्ध, प्राकृतिक आपदा अथवा राजनीतिक उत्पीड़न के कारण देश छोड़ने वाले लोगों को निम्नलिखित में से क्या पुकारा/कहा जाता है? (A) भगोड़ा (B) निर्वासित (C) शरणार्थी (D) प्रवासी		1	
उत्तर	(C) शरणार्थी	P- 74-I	1	
5.	सूची-1 का सूची-II से सही मिलान कीजिए और उत्तर के रूप में सही विकल्प चुनिए: सूची-1 1 ऊर्जा संरक्षण अधिनियम, भारत			
	सूची-II (i) 1975		1	
	3			

	<p>2 बिजली अधिनियम, भारत (ii)1992</p> <p>3 पृथ्वी सम्मेलन (iii)2001</p> <p>4 वर्ल्ड काउंसिल ऑफ इंडिजिनस पीपल (मूलवासियों) विकल्प (iv) 2003</p> <p>(A) 1-(iv), 2-(i), 3-(iii), 4-(ii)</p> <p>(B) 1-(iii), 2-(iv), 3-(ii), 4-(i)</p> <p>(C) 1-(ii), 2-(iii), 3-(i), 4-(iv)</p> <p>(D) 1-(i), 2-(ii), 3-(iv), 4-(iii)</p>			
उत्तर	(B) 1-(iii), 2-(iv), 3-(ii), 4-(i)	P-90-I	1	
6.	<p>इस प्रश्न के लिए, दो कथन दिए गए हैं जिनमें एक को अभिकथन (A) तथा दूसरे को कारण (R) द्वारा अंकित किया गया है। इन कथनों को ध्यान से पढ़िए और नीचे दिए गए विकल्पों (A), (B), (C) और (D) में से उत्तर के रूप में सही विकल्प चुनिए।</p> <p>अभिकथन (A) : साझी संपदा के संसाधन पूरी दुनिया में आकार, गुणवत्ता और गरीबों के लिए उनकी उपलब्धता के आधार पर घट रहे हैं।</p> <p>कारण (R): साझी संपदा के निम्नीकरण के लिए कई कारक जैसे निजीकरण, गहनतर खेती, जनसंख्या वृद्धि और पारिस्थितिकी तंत्र की गिरावट उत्तरदायी हैं।</p> <p>विकल्प:</p> <p>(A) अभिकथन (A) और कारण (R) दोनों सही हैं और कारण (R), अभिकथन (A) की सही व्याख्या करता है।</p> <p>(B) अभिकथन (A) और कारण (R) दोनों सही हैं, परन्तु कारण (R), सही व्याख्या नहीं करता है।</p> <p>(C) अभिकथन (A) सही है, परन्तु कारण (R) गलत है।</p> <p>(D) अभिकथन (A) गलत है, परन्तु कारण (R) सही है।</p>		1	
उत्तर	(A) अभिकथन (A) और कारण (R) दोनों सही हैं और कारण (R), अभिकथन (A) की सही व्याख्या करता है।	P-88-I	1	
7.	<p>विश्वलिखित में से कौन-सी राजनीतिक पार्टी पहली लोकसभा में मुख्य विपक्षी पार्टी थी?</p> <p>(A) कम्युनिस्ट पार्टी ऑफ इंडिया</p> <p>(B) भारतीय जनसंघ</p> <p>(C) सोशलिस्ट पार्टी</p> <p>(D) काँग्रेस सोशलिस्ट पार्टी</p>		1	
उत्तर	(A) कम्युनिस्ट पार्टी ऑफ इंडिया	P-30-II	1	
8.	<p>भारत में कौन-से वर्ष पूरे देश में इलेक्ट्रॉनिक वोटिंग मशीन (EVM) का प्रयोग शुरू किया गया ?</p>		1	



	(A) 2001 (C) 2003	(B) 2002 (D) 2004			
उत्तर	(D) 2004		P-29-II	1	
9.	भारत और चीन ने पंचशील समझौते पर हस्ताक्षर किस वर्ष में किए थे ? (A) 1950 (C) 1954			1	
उत्तर	(C) 1954	(B) 1952 (D) 1956	P-58-II	1	
10.	इस प्रश्न के लिए, दो कथन दिए गए हैं जिनमें एक को अभिकथन (A) तथा दूसरे को कारण (R) द्वारा अंकित किया गया है। इन कथनों को ध्यान से पढ़िए और नीचे दिए गए विकल्पों (A), (B), (C) और (D) में से उत्तर के रूप में सही विकल्प चुनिए। अभिकथन (A) : असम से एक जनजातीय राज्य के बजाय अनेक राज्य अलग करके बनाए गए। कारण (R): प्रमुख जनजातीय समुदायों के नेता असम से अलग होना चाहते थे। विकल्प: (A) अभिकथन (A) और कारण (R) दोनों सही हैं और कारण (R), अभिकथन (A) की सही व्याख्या करता है। (B) अभिकथन (A) और कारण (R) दोनों सही हैं, परन्तु कारण (R), सही व्याख्या नहीं करता है। (C) अभिकथन (A) सही है, परन्तु कारण (R) गलत है। (D) अभिकथन (A) गलत है, परन्तु कारण (R) सही है।			1	
उत्तर	(A) अभिकथन (A) और कारण (R) दोनों सही हैं और कारण (R), अभिकथन (A) की सही व्याख्या करता है।		P-127-II	1	
11.	1955 में एफ्रो-एशियन कॉन्फ्रेंस निम्नलिखित में से किस स्थान पर हुई थी ? (A) जकार्ता (C) बाली			1	
उत्तर	(B) बांडुंग	(B) बांडुंग (D) जावा	P-58-I	1	
12.	दिमसा समुदाय भारत के किस राज्य से सम्बन्ध रखता है ? (A) मिज़ोरम (B) त्रिपुरा (C) असम (D) मणिपुर			1	
उत्तर	(C) असम		P-127-	1	

		I		
	खंड-ख			
13.	बांग्लादेश के निर्माण से पूर्व, पूर्वी पाकिस्तान में लोगों द्वारा पश्चिम पाकिस्तान के विरोध के कोई दो कारण स्पष्ट कीजिए।			2
उत्तर	<p>कारण-</p> <p>I. पूर्वी पाकिस्तान के लोग पश्चिमी पाकिस्तान के दबदबे और अपने ऊपर उर्दू भाषा लादने के खिलाफ थे।</p> <p>II. पाकिस्तान के निर्माण के तुरंत बाद ही यहाँ के लोगों ने बंगाली संस्कृति और भाषा के साथ किए जा रहे दुर्व्यवहार के खिलाफ विरोध जताना शुरू कर दिया।</p> <p>III. प्रशासन और राजनीतिक सत्ता में पूर्वी पाकिस्तान को समुचित प्रतिनिधित्व प्राप्त नहीं था।</p> <p>IV. पश्चिमी पाकिस्तान के प्रभुत्व के खिलाफ मुजीबुर्रहमान ने पूर्वी पाकिस्तान में जन- आन्दोलन का नेतृत्व किया।</p> <p>(या अन्य कोई प्रासंगिक बिन्दु) (कोई दो)</p>	P-32-I	2x1 =	2
14.	समकालीन विश्व में 'वैश्विक गरीबी' किस प्रकार सुरक्षा के लिए खतरे का एक नया स्रोत है ? स्पष्ट कीजिए।			2
उत्तर	<p>वैश्विक गरीबी खतरे के एक नये स्रोत के रूप में-</p> <p>i अगले 50 वर्षों में जनसंख्या तीन गुना होने की उम्मीद है। विश्व की जनसंख्या - जो अब 760 करोड़ है - 21वीं सदी के मध्य तक बढ़कर लगभग 1000 करोड़ हो जाएगी। जनसंख्या वृद्धि सुरक्षा के लिए एक खतरा है।</p> <p>ii प्रति व्यक्ति उच्च आय और जनसंख्या वृद्धि की कम दर से अमीर देश और अमीर हो जाएंगे और प्रति व्यक्ति कम आय और अधिक जनसंख्या वृद्धि वाले देश और अधिक गरीब हो जाएंगे जिससे दोनों के बीच एक खाई उत्पन्न हो जाएगी।</p> <p>iii दक्षिणी देशों में गरीबी के कारण बेहतर जीवन की तलाश में बड़े पैमाने पर दूसरे राज्यों में लोगों का पलायन हुआ है।</p> <p>(या अन्य कोई प्रासंगिक बिन्दु) (कोई दो)</p>	P-73-I	2x1 =	2
15.	भारत में नियोजित विकास की जरूरत पर सहमति बनाने में सहयोग देने वाले किन्हीं दो कारकों को उजागर कीजिए।			2
उत्तर	<p>नियोजित विकास की जरूरत पर सहमति बनाने में सहयोग देने वाले कारक-</p> <p>I. अधिकांश हितधारक इस बात पर सहमत थे कि विकास का काम केवल निजी हाथों में नहीं सौंपा जा सकता है।</p> <p>II. उद्योगपति भी इस बात पर सहमत थे कि गरीबी उन्मूलन, सामाजिक और राजनीतिक पुनर्वितरण का कार्य सरकार की मुख्य जिम्मेदारी है और इसके विकास के लिए राज्य को एक योजना बनानी चाहिए।</p> <p>III. उद्योगपतियों द्वारा 'बॉम्बे प्लान' का प्रारूप दिया गया, जिसने नियोजित विकास का समर्थन किया।</p> <p>IV. अधिकांश नेताओं ने नियोजित अर्थव्यवस्था का समर्थन किया।</p>	P-46,47-II	2x1 =	2



	(कोई दो)			
16.	1952 में पहला आम चुनाव करवाना, भारत के चुनाव आयोग के लिए एक चुनौतीपूर्ण कार्य क्यों था ? स्पष्ट कीजिए।			2
उत्तर	<p>(i) देश का आकार बड़ा था और इसमें लगभग 17 करोड़ मतदाता थे।</p> <p>(ii) अधिकांश मतदाता गरीब और अशिक्षित थे अतः स्वतंत्र एवं निष्पक्ष चुनाव कराना आसान नहीं था।</p> <p>iii) उस समय लोकतन्त्र केवल कुछ धनी देशों में ही कायम था और बहुत से देशों में महिलाओं को भी मताधिकार नहीं मिला था। ऐसे में भारत में सार्वभौम वयस्क मताधिकार का प्रयोग करना जोखिम भरा था।</p> <p>iv) मतदाता सूची तैयार करना एक विशाल कार्य था।</p> <p>v) चुनाव आयोग को मतदान के लिए एक लाख से अधिक अधिकारियों को प्रशिक्षित करना था।</p>	30-II	2x1 =	2
	(कोई दो)			
17.	आर्थिक वृद्धि और लोकतंत्र किस प्रकार भारत को अधिक सुरक्षा प्रदान करने में सहायक हैं ? स्पष्ट कीजिए।			2
उत्तर	आर्थिक विकास और लोकतंत्र भारत को विभिन्न तरीकों से अधिक सुरक्षा प्रदान करते हैं। बड़ी संख्या में नागरिकों को गरीबी से बाहर निकालने और भारी आर्थिक असमानताओं को समाप्त करने के लिए अर्थव्यवस्था को विकसित करने का प्रयास किया गया है। भारत में लोकतंत्र, विभिन्न मुद्दों को सुलझाने और क्षेत्रीय आकांक्षाओं को पूर्ण करने में विश्वास करता है, जो मानव सुरक्षा प्रदान करता है। यहाँ जनता को अपनी आवाज उठाने और सरकार तक अपनी मांगे तथा समस्याएं पहुंचने का अधिकार है।	P-77-1	2	2
18.	भारत के ऐसे किन्हीं चार प्रधानमंत्रियों के नाम लिखिए, जो एक वर्ष से कम समय के लिए सत्ता में रहे।			2
उत्तर	<p>(i) गुलजारी लाल नंदा</p> <p>(ii) चरण सिंह</p> <p>(iii) वी. पी. सिंह</p> <p>(iv) चंद्रशेखर</p> <p>(v) एच. डी. देवेगौड़ा</p> <p>(vi) इंद्र कुमार गुजराल</p>	P-143-I	4x1/2 =	2
	(कोई चार)			
	खंड-ग			
19.	1962 के चीन के आक्रमण का भारत की राजनीतिक स्थिति पर हुए प्रभाव का विश्लेषण कीजिए।			4

उत्तर	<ul style="list-style-type: none"> i. भारत-चीन युद्ध ने देश और विदेश में भारत की छवि को हानि पहुंचाई। ii. तत्कालीन रक्षा मंत्री वी. कृष्ण मेनन को कैबिनेट से त्यागपत्र देना पड़ा और सेना के कुछ शीर्ष कमांडरों ने अपने पद से इस्तीफा दे दिया। iii. पहली बार सरकार के खिलाफ लोकसभा में अविश्वास प्रस्ताव लाया गया और उस पर बहस हुई। iv. कांग्रेस को लोकसभा के कुछ महत्वपूर्ण उप-चुनावों में हार का सामना करना पड़ा। v. चीन-भारत संघर्ष ने भारत में विपक्षी दलों को प्रभावित किया। भारत की कम्युनिस्ट पार्टी के बीच मतभेद उभर आए। vi. भारतीय नेता पूर्वोत्तर क्षेत्र की परिवर्तनशील स्थिति के प्रति सचेत हो गए। <p style="text-align: right;">(कोई दो प्रभाव)</p>	P-62,6 3-I	2x2 =	4
20.	सोवियत संघ के विघटन के कोई दो कारण स्पष्ट कीजिए।		2x2	4
उत्तर	<p>सोवियत संघ के विघटन के लिए उत्तरदायी कारण:</p> <ul style="list-style-type: none"> i. सोवियत संघ की राजनीतिक-आर्थिक संस्थाएँ आंतरिक रूप से कमजोर हो चुकीं थीं। ii. कई वर्षों तक अर्थव्यवस्था गतिरुद्ध रही। iii. सोवियत संघ ने अपने अधिकांश संसाधनों का उपयोग परमाणु और सैन्य शस्त्रागार को बनाए रखने में किया। iv. कम्युनिस्ट पार्टी लोगों के प्रति जवाबदेह नहीं रह गई थी। v. साधारण लोग प्रौद्योगिकी और पश्चिम की आर्थिक उन्नति से अवगत हो गए थे। vi. प्रशासन में भ्रष्टाचार व्याप्त था। vii. सोवियत संघ प्रशासनिक और राजनीतिक क्षेत्र में गतिरुद्ध हो गया था। viii. सोवियत प्रणाली खुलेपन की अनुमति देने के लिए तैयार नहीं थी। ix. मिखाइल गोर्बाचेव द्वारा शुरू किए गए सुधार भी सोवियत संघ के विघटन का कारण बने। <p style="text-align: right;">(कोई दो कारण)</p>	P-4,5-I	2X2 =	4
21. (क)	"भारत के भूटान के साथ अति विशिष्ट सम्बन्ध हैं।" दो उदाहरणों की सहायता से कथन की पुष्टि कीजिए।			4
(ख)	अथवा भारत की अपने छोटे पड़ोसी देशों के साथ समस्याओं के किन्हीं दो कारणों का विश्लेषण कीजिए।			4
उत्तर (क)	<p>भारत-भूटान संबंध-</p> <p>1. भारत के भूटान के साथ बहुत अच्छे रिश्ते हैं और भूटान की सरकार के साथ</p>	41-I	2x2 =	4



<p>(ख)</p>	<p>कोई बड़ा विवाद नहीं हैं। भूटान के राजा के द्वारा पूर्वोत्तर भारत के उग्रवादियों और गुरिल्लों को भूटान ने अपने क्षेत्र से खदेड़ भगाया जो भारत के हित में था।</p> <p>II. भारत भूटान में पनबिजली की बड़ी योजनाओं में हाथ बंट रहा है। इस देश को विकास कार्यों के लिए सबसे ज्यादा अनुदान भारत से हासिल होता है। कोई अन्य बिंदु (कोई दो) अथवा</p> <p>भारत की अपने छोटे पड़ोसी देशों के साथ समस्याओं के कारण-</p> <p>I. भारत का आकार बड़ा है और यह शक्तिशाली है। इसकी वजह से अपेक्षाकृत छोटे देशों का भारत के इरादों को लेकर शक होना लाजिमी है। दूसरी तरफ, भारत सरकार को अक्सर महसूस होता है कि उसके पड़ोसी देश उसका फ़ायदा उठा रहे हैं।</p> <p>II. भारत नहीं चाहता कि इन देशों के में राजनीतिक अस्थिरता पैदा हो। उसे भय लगता है कि ऐसी स्थिति में बाहरी ताकतों को इस क्षेत्र में प्रभाव बढ़ाने में मदद मिलेगी।</p> <p>III. छोटे देशों को लगता है कि भारत दक्षिण एशिया में अपना दबदबा कायम करना चाहता है। (कोई दो)</p>	<p>41-I</p>	<p>2x2 =</p>	<p>4</p>
<p>22. (क)</p>	<p>वैश्वीकरण का विरोध करने में भारत की भूमिका की व्याख्या कीजिए। अथवा</p>			<p>4</p>
<p>(ख)</p>	<p>वैश्वीकरण के संदर्भ में राज्यों की बदलती हुई भूमिका की व्याख्या कीजिए।</p>			<p>4</p>
<p>उत्तर (क)</p>	<p>वैश्वीकरण के विरोध में भारत की भूमिका:-</p> <p>I. भारत में वैश्वीकरण का विरोध कई हलकों से हो रहा है। आर्थिक वैश्वीकरण के खिलाफ वामपंथी तेवर की आवाजें राजनीतिक दलों और इंडियन सोशल फोरम की तरफ से भी उठती रहती हैं।</p> <p>II. औद्योगिक श्रमिकों और किसानों के संगठनों ने बहुराष्ट्रीय निगमों के भारत में प्रवेश का विरोध किया है।</p> <p>III. कुछ वनस्पतियों, मसलन 'नीम' को अमरीकी और यूरोपीय फ़र्मों ने पेटेंट कराने के प्रयासों का भी भारत द्वारा कड़ा विरोध किया गया है।</p> <p>IV. पाश्चात्य सांस्कृतिक के विभिन्न प्रभावों का भारतीय लोगों, इसके त्योहारों, व्यजनों तथा पोशाकों पर पड़ने वाले प्रभावों का विरोध किया गया है।</p> <p>V. दक्षिणी पंथी लोगों ने भी वैश्वीकरण का विरोध किया है।</p>	<p>P- 111 -I</p>	<p>4x1 =</p>	<p>4</p>

<p>(ख)</p>	<p style="text-align: center;">अथवा</p> <p>राज्यों की बदलती भूमिका-</p> <p>I.पूरी दुनिया में अब कल्याणकारी राज्य की जगह न्यूनतम हस्तक्षेपकारी राज्य ने ले ली है।</p> <p>II.राज्य अब केवल कुछ मुख्य कामों तक ही अपने को सीमित रखता है, जैसे कानून और व्यवस्था को बनाए रखना तथा अपने नागरिकों की सुरक्षा करना।</p> <p>III.कल्याणकारी राज्य की जगह बाज़ार आर्थिक और सामाजिक प्राथमिकताओं का निर्धारक बन गया है।</p> <p>IV.इसी के साथ वैश्वीकरण से हमेशा राज्य की ताकत में कमी नहीं आती। राजनीतिक समुदाय के आधार के रूप में राज्य की प्रधानता को कोई चुनौती नहीं मिली है।</p> <p>V.कुछ मायनों में वैश्वीकरण के फलस्वरूप राज्य की ताकत में इजाफ़ा भी हुआ है। अब राज्यों के हाथ में अत्याधुनिक प्रौद्योगिकी मौजूद है जिसके बूते राज्य अपने नागरिकों के बारे में सूचनाएँ जुटा सकता है।</p> <p style="text-align: right;">(कोई चार)</p>	<p>P-103 से 104 -I</p>	<p>4x1 =</p>	<p>4</p>
<p>23.</p>	<p>"क्षेत्रीय आकांक्षाएँ लोकतांत्रिक राजनीति का एक अभिन्न अंग हैं।" कथन को न्यायोचित ठहराइए।</p>		<p>4</p>	<p>4</p>
<p>उत्तर</p>	<p>i. क्षेत्रीय आकांक्षाएँ लोकतांत्रिक राजनीति का बहुत बड़ा हिस्सा हैं। भारत में लोकतंत्र क्षेत्रीय आकांक्षाओं की राजनीतिक अभिव्यक्ति की अनुमति देता है और इन्हें राष्ट्र-विरोधी के रूप में नहीं देखता है।</p> <p>ii. लोकतांत्रिक राजनीति, दलों और समूहों के साथ लोगों को उनकी क्षेत्रीय पहचान, आकांक्षाओं और विशिष्ट क्षेत्रीय समस्याओं के आधार पर संबोधित करती है। यह प्रक्रिया क्षेत्रीय आकांक्षाओं को मजबूती प्रदान करती है।</p> <p>iii. लोकतांत्रिक राजनीति का आशय है कि क्षेत्रीय मुद्दों और समस्याओं को नीति निर्माण प्रक्रिया में पर्याप्त ध्यान और स्थान मिलेगा। ये व्यवस्थाएँ कभी-कभी तनाव और समस्याओं का कारण बन सकती हैं। क्षेत्रीय आकांक्षाओं की अभिव्यक्ति और उन्हें पूरा करने का प्रयास वह प्रक्रिया है जो क्रांति और अशांति की संभावनाओं को कम करता है।</p> <p>(समग्र रूप से मूल्यांकन करें)</p>	<p>P-84 to 85-I</p>	<p>4</p>	<p>4</p>
	<p style="text-align: center;">खंड- घ</p>			
<p>24.</p>	<p>दिए गए अवतरण को ध्यान से पढ़िए और नीचे दिए गए प्रश्नों के उत्तर लिखिए</p> <p>'साझे संपदा ' उन संसाधनों को कहते हैं जिन पर कोई एक नहीं, बल्कि पूरे समुदाय का अधिकार होता है। यह एक 'कॉमन रूम' या 'सामुदायिक केन्द्र, पार्क या नदी हो सकता है। इसी तरह विश्व के कुछ हिस्से अथवा क्षेत्र ऐसे भी हैं जो किसी एक देश के संप्रभु क्षेत्राधिकार से बाहर होते हैं। इसीलिए उनका प्रबंधन साझे तौर पर अन्तर्राष्ट्रीय समुदाय द्वारा किया</p>		<p>4x1</p>	<p>4</p>

	जाता है। इन्हें 'वैश्विक संपदा' कहा जाता है।			
(i)	निम्नलिखित में से कौन-सा पहलू 'वैश्विक संपदा' का सबसे अच्छा वर्णन करता है? (A) केवल वैज्ञानिक अनुसंधान के लिए उपलब्ध संसाधन । (B) एकल राष्ट्र के अधिकार क्षेत्र के तहत संसाधन । (C) विकसित देशों के प्रबंधन के बाहर संसाधन । (D) अन्तर्राष्ट्रीय समुदाय के साझा प्रबंधन के तहत संप्रभु क्षेत्र ।		1	
(ii)	1992 के रियो सम्मेलन को _____ नाम से भी जाना जाता है। (A) ग्लोबल सम्मेलन (B) ग्रह सम्मेलन (C) पृथ्वी सम्मेलन (D) विश्व सम्मेलन			
(iii)	'वैश्विक संपदा' के प्रबंधन के लिए अन्तर्राष्ट्रीय सहयोग क्यों आवश्यक है ? निम्नलिखित में से सर्वोपयुक्त विकल्प का चयन कीजिए (A) संसाधन प्रचुर मात्रा में हैं और स्वयं-पुनःपूर्ति करने वाले हैं। (B) अन्य देशों के संसाधनों को साझा करने के राजनीतिक लाभ हैं। (C) देश अपने-अपने संसाधनों का प्रबंधन कर सकते हैं। (D) सतत विकास के प्रति दृष्टिकोण सभी के लिए समान है।		1	
(iv)	निम्नलिखित में से, देशों के किस जोड़े को क्योटो प्रोटोकॉल की बाध्यताओं से छूट दी गई थी ? (A) चीन और रूस (B) चीन और भारत (C) चीन और संयुक्त राज्य अमरीका (D) भारत और फ्रांस		1	
	i. (D) अन्तर्राष्ट्रीय समुदाय के साझा प्रबंधन के तहत संप्रभु क्षेत्र । ii. (C) पृथ्वी सम्मेलन iii. (D) सतत विकास के प्रति दृष्टिकोण सभी के लिए समान है। iv. (B) चीन और भारत		4×1 =	4
25.	भारत के दिए गए राजनीतिक रेखा-मानचित्र (पृष्ठ 15 पर) में चार राज्यों को A, B ,C तथा D के द्वारा अंकित किया गया है । नीचे दी गई जानकारी के आधार पर इन राज्यों की पहचान कीजिए और अपनी उत्तर-पुस्तिका में इनके सही नाम, प्रयोग की गई जानकारी की क्रम संख्या तथा मानचित्र में दिया गया संबंधित अक्षर, नीचे दी गई तालिका के रूप में लिखिए :		4×1 =	4
	प्रयोग की गई जानकारी की क्रम संख्या	संबंधित अक्षर	राज्य का नाम	
	(i)			
	(ii)			
	(iii)			
	(iv)			
	(i) वह राज्य जिससे पूर्व प्रधानमंत्री लाल बहादुर शास्त्री का संबंध था। (ii) वह राज्य जिससे पूर्व मुख्यमंत्री कर्पूरी ठाकुर का संबंध था।			



(iii) वह राज्य जिससे पूर्व मुख्यमंत्री सी. नटराजन अन्नादुरई का संबंध था।
(iv) वह राज्य जिससे भारत के पूर्व राष्ट्रपति वी.वी. गिरि का संबंध था।

प्र. सं. 25 के लिए



उत्तर

प्रयोग की गई जानकारी की क्रम संख्या	संबंधित अक्षर	राज्य का नाम
(i)	C	उत्तर प्रदेश
(ii)	D	बिहार
(iii)	B	तामिल नाडु
(iv)	A	आंध्र प्रदेश

नोट: निम्नलिखित प्रश्न केवल दृष्टिबाधित परीक्षार्थियों के लिए प्रश्न संख्या 25 के स्थान पर हैं:
(25.1) उस राज्य का नाम लिखिए जिससे भारत के पूर्व राष्ट्रपति वी.वी. गिरि का संबंध था।
(25.2) उस राज्य का नाम लिखिए जिससे पूर्व मुख्यमंत्री के. कामराज का संबंध था।
(25.3) उस राज्य का नाम लिखिए जिससे पूर्व मुख्यमंत्री कर्पूरी ठाकुर का संबंध था।
(25.4) उस राज्य का नाम लिखिए जिससे पूर्व प्रधानमंत्री लाल बहादुर शास्त्री का संबंध था।

- 25.1 आंध्र प्रदेश
25.2 तामिल नाडु
25.3 बिहार
25.4 उत्तर प्रदेश

II-
74,
78
82
83

26. नीचे दिए गए कार्टून का ध्यानपूर्वक अध्ययन कीजिए और निम्नलिखित प्रश्नों के उत्तर दीजिए:





- (i) 'लाल किताब' को हाथ में पकड़े हुए नेता को पहचान कर उसका नाम लिखिए।
(ii) चीन में 'लाल किताब' (तब) से 'लाल टाई' (अब) तक आने में क्या वैचारिक परिवर्तन हुआ ?
(iii) चीन में 'तब' और 'अब' के बीच हुए किन्हीं दो आर्थिक परिवर्तनों की व्याख्या कीजिए।

1+1
+2=

4

- i) माओ।
ii) बंद अर्थव्यवस्था के स्थान पर खुली अर्थव्यवस्था को अपनाना।
iii)
 - चीन ने 1972 में अमरीका से संबंध बनाकर अपने राजनैतिक और आर्थिक एकांतवास को खत्म किया।
 - 1973 में प्रधानमंत्री चाऊ एनलाई ने कृषि, उद्योग, सेना और प्रौद्योगिकी के क्षेत्र में आधुनिकीकरण के चार प्रस्ताव रखे।
 - 1978 में देंग श्याओपेंग ने चीन में आर्थिक सुधारों और 'खुले द्वार की नीति' अपनाई।
(अथवा कोई अन्य परिवर्तन) (कोई दो)

1-23

1
1
2
=

4

नोट : निम्नलिखित प्रश्न केवल दृष्टिबाधित परीक्षार्थियों के लिए प्रश्न संख्या 26 के स्थान पर हैं।
(26.1) चीन में कृषि का निजीकरण किस वर्ष लागू किया गया था ?
(26.2) चीन में साम्यवादी क्रान्ति का नेतृत्व करने वाले नेता का नाम लिखिए।
(26.3) चीनी अर्थव्यवस्था के उत्थान के लिए जिम्मेदार किन्हीं दो कारकों की व्याख्या कीजिए।

4

- i) 1982
ii) माओ।
iii)

P-
23-II

1
1
2=

4

	<ul style="list-style-type: none"> आर्थिक स्तर पर अपने पड़ोसी मुल्कों को के साथ जुड़ाव के कारण चीन की अर्थव्यवस्था का उत्थान हुआ है चीन की विशाल आबादी, बड़ा भू-भाग संसाधन और राजनीतिक प्रभाव आदि भी और इसके आर्थिक उत्थान के लिए उत्तरदायी हैं। <p>(अथवा कोई अन्य बिंदु)</p>			
	खंड- ड			
27. (क)	यूरोपीय संघ का एक आर्थिक संघ से बदलकर एक ज्यादा से ज्यादा राजनैतिक और सैन्य संघ का रूप लेने की विकास प्रक्रिया का वर्णन कीजिए।			6
(ख)	अथवा 'आसियान' के किन्हीं तीन उद्देश्यों का वर्णन कीजिए।			6
उत्तर (क)	<ul style="list-style-type: none"> यूरोपीयन पार्लियामेंट के गठन के बाद से यूरोपीयन संघ ने राजनीतिक स्वरूप प्राप्त कर लिया। यूरोपीय संघ ने एक साझा झंडा, गान, स्थापना दिवस और अपनी मुद्रा 'यूरो' को अपनाया है। यूरोपीय संघ ने अन्य देशों के संबंध में काफी हद तक साझी विदेश और सुरक्षा नीति भी बना ली है। नए सदस्यों को शामिल करते हुए यूरोपीय संघ ने सहयोग के दायरे में विस्तार किया है। नए सदस्य मुख्यतः भूतपूर्व सोवियत खेमे के थे। <p>(समग्र रूप से मूल्यांकन करें)</p> <p style="text-align: center;">अथवा</p>	P-16 से 18-I	6	6
(ख)	<p>आसियान के तीन उद्देश्य-</p> <ol style="list-style-type: none"> 'सामाजिक प्रगति और सांस्कृतिक विकास' के माध्यम से क्षेत्र के आर्थिक विकास में तेजी लाना। कानून के शासन और संयुक्त राष्ट्र चार्टर के सिद्धांतों पर आधारित पर क्षेत्रीय शांति और स्थिरता को बढ़ावा देना। आसियान देशों ने सदस्य देशों की समस्याओं के समाधान के लिए बातचीत को अपनाया है जिसे 'आसियान शैली' के नाम से जाना जाता है। यह अनौपचारिक, टकरावरहित और सहयोगात्मक मेल-मिलाप की शैली है। इसके सदस्य देशों में राष्ट्रीय संप्रभुता के प्रति सम्मान है, जो संगठन की प्रगति में सहायक है। <p>(अन्य कोई प्रासंगिक बिन्दु) (कोई तीन)</p>	P-20-I	3x2 =	6
28. (क)	समकालीन विश्व में संयुक्त राष्ट्र की प्रासंगिकता की व्याख्या कीजिए।			6
	अथवा			



(ख)	<p>"सुरक्षा परिषद में समान प्रतिनिधित्व की कमी है।" उपर्युक्त कथन के संदर्भ में, संयुक्त राष्ट्र की पुनर्रचना की आवश्यकता स्पष्ट कीजिए।</p>			6
उत्तर (क)	<p>समकालीन विश्व में संयुक्त राष्ट्र की प्रासंगिकता-</p> <ol style="list-style-type: none"> मुख्य रूप से संयुक्त राष्ट्र की प्रासंगिकता अंतर्राष्ट्रीय झगड़ों को रोकना और राष्ट्रों के बीच सहयोग की राह दिखाने में है। संयुक्त राष्ट्र ने कई अंतर्राष्ट्रीय युद्धों को रोकने का कार्य किया है। कुछ देशों को यह आशा है कि संयुक्त राष्ट्र एक ध्रुवीय विश्व में, जहां अमरिका सबसे ताकतवर देश है, कारगर ढंग से काम कर पाएगा। संयुक्त राष्ट्र, अमरिका और विश्व के अन्य देशों के बीच विभिन्न मुद्दों पर चर्चा करने और आपसी सहमति बनाने में सहायक होता है। संयुक्त राष्ट्र की प्रासंगिकता इस बात में भी है की यह संगठन अंतर्राष्ट्रीय झगड़ों और सामाजिक और आर्थिक विकास के मसलों पर 190 से अधिक देशों को एक साथ लाने का प्रयास करता है। विश्व के शेष देशों के लिए, संयुक्त राष्ट्र एक ऐसा मंच है जिसमें अमरिकी रवैये और नीतियों पर कुछ अंकुश लगाया जा सकता है। संयुक्त राष्ट्र एक अपूर्ण संस्था है लेकिन इसके बिना दुनिया और बदहाल होगी। विभिन्न समाजों के बीच 'पारस्परिक निर्भरता' बढ़ने के कारण संयुक्त राष्ट्र की प्रासंगिकता भी निरंतर बढ़ती रहेगी। <p>(अथवा कोई अन्य प्रासंगिक बिंदु)</p> <p style="text-align: center;">अथवा</p> <p>(ख) संयुक्त राष्ट्र के पुनर्गठन की आवश्यकता:-</p> <ul style="list-style-type: none"> सुरक्षा परिषद वर्तमान में राजनीतिक वास्तविकताओं का प्रतिनिधित्व नहीं करता। इसके फैसलों पर पश्चिमी मूल्यों और हितों की छाप होती है और इन फैसलों पर चंद देशों का दबदबा होता है। सुरक्षा परिषद में बराबर का प्रतिनिधित्व नहीं है। जहां तक स्थायी सदस्यों का सवाल है, इसमें लैटिन अमेरिका और अफ्रीका से कोई प्रतिनिधित्व नहीं है। संयुक्त राष्ट्र के स्थायी सदस्यों के पास वीटो शक्ति है लेकिन अस्थायी सदस्यों के पास वीटो शक्ति नहीं है। <p>(समग्र रूप से मूल्यांकन करें) (व्याख्या सहित)</p>	I-58-60	6 x 1 =	6
29. (क)	<p>1947 में ब्रिटिश इंडिया के विभाजन के किन्हीं चार परिणामों का विश्लेषण कीजिए।</p>	P-52-I	6	6



(ख)	<p style="text-align: center;">अथवा</p> <p>मणिपुर के भारतीय संघ में विलय के लिए उत्तरदायी घटनाओं का विश्लेषण कीजिए ।</p>			6
उत्तर (क)	<p>1947 में ब्रिटिश इंडिया के विभाजन के चार परिणाम:-</p> <p>I. ब्रिटिश इंडिया के विभाजन के कारण बहुत बड़ी आबादी का आकस्मिक, अनियोजित और त्रासदीपूर्ण स्थानांतरण हुआ।</p> <p>II. धर्म के नाम पर एक समुदाय के लोगों द्वारा दूसरे समुदाय के लोगों को बेरहमी से मारा गया ।</p> <p>III. लाहौर, अमृतसर और कलकत्ता जैसे शहर सांप्रदायिक अखाड़े में तब्दील हो गए।</p> <p>IV. लोग अपना घर-बार छोड़ने के लिए मजबूर हुए और उनको बार्डर पार करने में अनेक विपत्तियों का सामना करना पड़ा।</p> <p>V. दोनों ही तरफ के अल्पसंख्यकों को शरणार्थी शिविरों में अस्थायी रूप से शरण लेनी पड़ी। शरणार्थियों को बहुत हानि हुई और उन्हें हिंसा के दुष्प्रभावों का सामना करना पड़ा।</p> <p>VI. लाखों लोग मारे गए, महिलाओं को अगवा कर लिया गया और उन्हें अपमानित किया गया।</p> <p>VII. लोगों को धर्म परिवर्तन के लिए मजबूर किया गया।</p> <p>VIII. कई परिवारों ने खुद ही अपने 'कुल की इज्जत' बचाने के लिए घर की बहु - बेटियों को मार डाला। बहुत से बच्चे अपने माँ-बाप से बिछड़ गए।</p> <p style="text-align: right;">(कोई चार)</p>	9-II	4 x 1½ =	6
(ख)	<p style="text-align: center;">अथवा</p> <ul style="list-style-type: none"> • आजादी के चंद रोज पहले मणिपुर के महाराजा बोधचंद्र सिंह ने भारत सरकार के साथ भारतीय संघ में अपनी रियासत के विलय के एक सहमति-पत्र पर हस्ताक्षर किए थे। इसकी एवज में उन्हें यह आश्वासन दिया गया था की मणिपुर की आंतरिक स्वायत्तता बरकरार रहेगी। • जनमत के दबाव में महाराजा ने 1948 के जून में चुनाव करवाया और इस चुनाव के फलस्वरूप मणिपुर रियासत में संवैधानिक राजतंत्र कायम हुआ। • मणिपुर भारत का पहला भाग है जहां सार्वभौम वयस्क मताधिकार के सिद्धांत को अपनाकर चुनाव करवाए गए। • मणिपुर की निर्वाचित विधानसभा से परामर्श किए बगैर भारत सरकार ने महाराजा पर दबाव डाला और वह महाराजा से सितंबर 1949 के विलय समझौते पर हस्ताक्षर कराने में सफल हुई। इस प्रकार मणिपुर को भारतीय संघ में शामिल किया गया। <p style="text-align: center;">(समग्र रूप से मूल्यांकन करें)</p>	18-II	6	6

<p>30. (क)</p>	<p>1989 से 1999 के बीच भारत में घटी किन्हीं चार प्रमुख राजनीतिक घटनाओं का वर्णन कीजिए।</p> <p style="text-align: center;">अथवा</p> <p>भारत की अधिकांश राजनीतिक पार्टियों के बीच उभरी सहमति के किन्हीं चार मुद्दों का वर्णन कीजिए।</p>			<p style="text-align: center;">6</p>
<p>उत्तर (क)</p>	<p>1989 से 1999 तक भारत में हुए चार प्रमुख राजनीतिक विकास इस प्रकार हैं-</p> <ol style="list-style-type: none"> 1. 1989 में हुए लोकसभा चुनावों में कांग्रेस पार्टी की हार। 2. राष्ट्रीय राजनीति में 'मंडल मुद्दे' का उदय। 3. नये आर्थिक सुधारों की शुरुआत अथवा संरचनात्मक समायोजन कार्यक्रम। 4. भाजपा का सशक्त उदय और 'हिंदुत्व' की राजनीति का प्रारम्भ। 5. मई 1991 में राजीव गांधी की हत्या। <p style="text-align: right;">(कोई चार व्याख्या सहित)</p> <p style="text-align: center;">अथवा</p> <p>भारत की अधिकांश राजनीतिक पार्टियों के बीच उभरी सहमति के चार मुद्दे -</p> <ol style="list-style-type: none"> 1. अधिकांश राजनीतिक पार्टियों के बीच नई आर्थिक नीतियों पर सहमतिहोना। 2. अधिकांश राजनीतिक पार्टियों द्वारा अन्य पिछड़ी जातियों के राजनीतिक और सामाजिक दावे को स्वीकृति देना। 3. देश के शासन में प्रांतीय दलों की भूमिका को अधिकांश राजनीतिक पार्टियों द्वारा स्वीकृति देना। 4. विचारधारा की जगह कार्यसिद्धि पर ज़ोर देना और वैचारिक सहमति के बगैर राजनीतिक गठजोड़ करना। <p style="text-align: right;">(कोई चार व्याख्या सहित)</p>	<p>P-137 से 139-॥</p>	<p>4x 1½ =</p>	<p style="text-align: center;">6</p>
<p>(ख)</p>	<p>भारत की अधिकांश राजनीतिक पार्टियों के बीच उभरी सहमति के चार मुद्दे -</p> <ol style="list-style-type: none"> 1. अधिकांश राजनीतिक पार्टियों के बीच नई आर्थिक नीतियों पर सहमतिहोना। 2. अधिकांश राजनीतिक पार्टियों द्वारा अन्य पिछड़ी जातियों के राजनीतिक और सामाजिक दावे को स्वीकृति देना। 3. देश के शासन में प्रांतीय दलों की भूमिका को अधिकांश राजनीतिक पार्टियों द्वारा स्वीकृति देना। 4. विचारधारा की जगह कार्यसिद्धि पर ज़ोर देना और वैचारिक सहमति के बगैर राजनीतिक गठजोड़ करना। <p style="text-align: right;">(कोई चार व्याख्या सहित)</p>	<p>P-153 से 155-॥</p>	<p>4 x 1½ =</p>	<p style="text-align: center;">6</p>

Marking Scheme
SUBJECT : POLITICAL SCIENCE (028) PAPER CODE NO : 59/S/1
Supplementary Examination,2024

General Instructions: -

1	You are aware that evaluation is the most important process in the actual and correct assessment of the candidates. A small mistake in evaluation may lead to serious problems which may affect the future of the candidates, education system and teaching profession. To avoid mistakes, it is requested that before starting evaluation, you must read and understand the spot evaluation guidelines carefully.
2	“Evaluation policy is a confidential policy as it is related to the confidentiality of the examinations conducted, Evaluation done and several other aspects. Its’ leakage to public in any manner could lead to derailment of the examination system and affect the life and future of millions of candidates. Sharing this policy/document to anyone, publishing in any magazine and printing in News Paper/Website etc may invite action under various rules of the Board and IPC.”
3	Evaluation is to be done as per instructions provided in the Marking Scheme. It should not be done according to one’s own interpretation or any other consideration. Marking Scheme should be strictly adhered to and religiously followed. However, while evaluating, answers which are based on latest information or knowledge and/or are innovative, they may be assessed for their correctness otherwise and due marks be awarded to them. In class-X, while evaluating two competency based questions, please try to understand given answer and even if reply is not from marking scheme but correct competency is enumerated by the candidate, marks should be awarded.
4	The Marking scheme carries only suggested value points for the answers These are in the nature of Guidelines only and do not constitute the complete answer. The students can have their own expression and if the expression is correct, the due marks should be awarded accordingly.
5	The Head-Examiner must go through the first five answer books evaluated by each evaluator on the first day, to ensure that evaluation has been carried out as per the instructions given in the Marking Scheme. . If there is any variation, the same should be zero after deliberation and discussion. The remaining answer books meant for evaluation shall be given only after ensuring that there is no significant variation in the marking of individual evaluators.
6	Evaluators will mark(✓) wherever answer is correct. For wrong answer CROSS ‘X’ be marked. Evaluators will not put right(✓) while evaluating which gives an impression that answer is correct and no marks are awarded. This is most common mistake which evaluators are committing.
7	If a question has parts, please award marks on the right-hand side for each part. Marks awarded for different parts of the question should then be totaled up and written in the left-hand margin and encircled. This may be followed strictly.
8	If a question does not have any parts, marks must be awarded in the left-hand margin and encircled. This may also be followed strictly.
9	If a student has attempted an extra question, answer of the question deserving more marks should be retained and the other answer scored out with a note "Extra Question" .
10	No marks to be deducted for the cumulative effect of an error. It should be penalized only once
11	A full scale of marks 80 marks given in Question Paper has to be used. Please do not hesitate to award full marks if the answer deserves it.
12	Every examiner has to necessarily do evaluation work for full working hours i.e. 8 hours every day and evaluate 20 answer books per day in main subjects and 25 answer books per day in other subjects (Details are given in Spot Guidelines).

13	<p>Ensure that you do not make the following common types of errors committed by the Examiner in the past:- Giving more marks for an answer than assigned to it.</p> <ul style="list-style-type: none"> ● Wrong totaling of marks awarded on an answer. ● Wrong transfer of marks from the inside pages of the answer book to the title page. <p>Wrong question wise totaling on the title page.</p> <ul style="list-style-type: none"> ● Leaving answer or part thereof unassessed in an answer book. ● Wrong totaling of marks of the two columns on the title page. ● Wrong grand total. ● Marks in words and figures not tallying/not same. ● Wrong transfer of marks from the answer book to online award list. ● Answers marked as correct, but marks not awarded. (Ensure that the right tick mark is correctly and clearly indicated. It should merely be a line. Same is with the X for incorrect answer.) ● Half or a part of answer marked correct and the rest as wrong, but no marks awarded.
14	<p>While evaluating the answer books if the answer is found to be totally incorrect, it should be marked as cross (X) and awarded zero (0)Marks.</p>
15	<p>Any un assessed portion, non-carrying over of marks to the title page, or totaling error detected by the candidate shall damage the prestige of all the personnel engaged in the evaluation work as also of the Board. Hence, in order to uphold the prestige of all concerned, it is again reiterated that the instructions be followed meticulously and judiciously.</p>
16	<p>The Examiners should acquaint themselves with the guidelines given in the “Guidelines for spot Evaluation” before starting the actual evaluation.</p>
17	<p>Every Examiner shall also ensure that all the answers are evaluated, marks carried over to the title page, correctly totaled and written in figures and words.</p>
18	<p>The candidates are entitled to obtain photocopy of the Answer Book on request on payment of the prescribed processing fee. All Examiners/Additional Head Examiners/Head Examiners are once again reminded that they must ensure that evaluation is carried out strictly as per value points for each answer as given in the Marking Scheme.</p>

	SECTION – A	Pg	Marks	Tot
			12X1=	12
Q1.	<p>Arrange the following events in chronological order :</p> <p>I. Gorbachev became the General Secretary of Communist Party of the Soviet Union.</p> <p>II. Russia, Ukraine and Belarus declared that Soviet Union is disbanded.</p> <p>III. Russian Revolution.</p> <p>IV. Fall of the Berlin Wall.</p> <p>Choose the correct option.</p> <p>(A) III, I, IV, II</p> <p>(B) III, II, I, IV</p> <p>(C) III, I, II, IV</p> <p>(D) III, IV, I, II</p>		1	
Ans	(A) III, I, IV, II	P-3-I	1	
Q2.	<p>The Presidents of which Central Asian Republics appointed themselves to power first for ten years and then extended their term for another ten years ?</p> <p>(A) Kyrgyzstan and Kazakhstan</p> <p>(B) Ukraine and Azerbaijan</p> <p>(C) Turkmenistan and Uzbekistan</p> <p>(D) Tajikistan and Kazakhstan</p>		1	
Ans	(C) Turkmenistan and Uzbekistan	P-10-I	1	
Q3.	<p>“Disarmament” requires all states to _____.</p> <p>(A) give up certain kinds of weapons</p> <p>(B) regulate the acquisition or development of weapons</p> <p>(C) share information about arms with rivals</p> <p>(D) coordinate their actions to deter or defend against military attack</p>		1	
Ans	(A) Give up certain kinds of weapons	P-69-I	1	
Q4.	<p>People who flee from war, natural disaster or political persecution are called _____.</p> <p>(A) Fugitives (B) Expatriates</p> <p>(C) Refugees (D) Migrants</p>		1	
Ans	(C) Refugees	P-74-I	1	



Q5.	<p>Match the List-I with List-II and choose the correct option as answer :</p> <table style="width: 100%; border: none;"> <tr> <td style="text-align: center; width: 50%;">List-I</td> <td style="text-align: center; width: 50%;">List-II</td> </tr> <tr> <td>1. The Energy Conservation Act, India</td> <td>(i) 1975</td> </tr> <tr> <td>2. The Electricity Act, India</td> <td>(ii) 1992</td> </tr> <tr> <td>3. Earth Summit</td> <td>(iii) 2001</td> </tr> <tr> <td>4. World Council of Indigenous Peoples</td> <td>(iv) 2003</td> </tr> </table> <p>Options : (A) 1-(iv), 2-(i), 3-(iii), 4-(ii) (B) 1-(iii), 2-(iv), 3-(ii), 4-(i) (C) 1-(ii), 2-(iii), 3-(i), 4-(iv) (D) 1-(i), 2-(ii), 3-(iv), 4-(iii)</p>	List-I	List-II	1. The Energy Conservation Act, India	(i) 1975	2. The Electricity Act, India	(ii) 1992	3. Earth Summit	(iii) 2001	4. World Council of Indigenous Peoples	(iv) 2003		1	
List-I	List-II													
1. The Energy Conservation Act, India	(i) 1975													
2. The Electricity Act, India	(ii) 1992													
3. Earth Summit	(iii) 2001													
4. World Council of Indigenous Peoples	(iv) 2003													
Ans	(B) 1-(iii), 2-(iv), 3-(ii), 4-(i)	P-90-I	1											
Q6.	<p>For this question, two statements are given - one labelled as Assertion (A) and the other labelled as Reason (R). Read these statements carefully and choose the correct option as the answer from the options (A), (B), (C) and (D) given below.</p> <p>Assertion (A) : Common property resources have dwindled in size, quality and availability to the poor in much of the world.</p> <p>Reason (R) : A combination of factors including privatisation, agricultural intensification, population growth and ecosystem degradation are responsible for degradation of common property.</p> <p>Options : (A) Both Assertion (A) and Reason (R) are true and Reason (R) is the correct explanation of the Assertion (A). (B) Both Assertion (A) and Reason (R) are true, but Reason (R) is not the correct explanation of the Assertion (A). (C) Assertion (A) is true, but Reason (R) is false. (D) Assertion (A) is false, but Reason (R) is true.</p>		1											
Ans	(A) Both Assertion (A) and Reason (R) are true and Reason (R) is the correct explanation of the Assertion (A).	P-88-I	1											
Q7.	<p>Which one of the following political parties was the main opposition party in the first Lok Sabha ?</p> <p>(A) Communist Party of India (B) Bharatiya Jana Sangh (C) Socialist Party (D) Congress Socialist Party</p>		1											
Ans	(A) Communist Party of India	P-30-II	1											
Q8.	<p>In which year did India start using the Electronic Voting Machines (EVM) throughout the entire country ?</p> <p>(A) 2001 (B) 2002 (C) 2003 (D) 2004</p>		1											

Ans	(D) 2004	P-29-II	1	
Q9.	In which year did India and China sign the Panchsheel Agreement ? (A)1950 (B)1952 (C) 1954 (D) 1956		1	
Ans	(C) 1954	P-58-II	1	
Q10.	For this question, two statements are given - one labelled as Assertion (A) and the other labelled as Reason (R). Read these statements carefully and choose the correct option as the answer from the options (A), (B), (C) and (D) given below. Assertion (A) : Instead of one tribal state, several states got carved out of Assam. Reason (R) : Leaders of the major tribal communities wanted to separate from Assam. Options : (A) Both Assertion (A) and Reason (R) are true and Reason (R) is the correct explanation of the Assertion (A). (B) Both Assertion (A) and Reason (R) are true, but Reason (R) is not the correct explanation of the Assertion (A). (C) Assertion (A) is true, but Reason (R) is false. (D) Assertion (A) is false, but Reason (R) is true.		1	
Ans	(A) Both Assertion (A) and Reason (R) are true and Reason (R) is the correct explanation of the Assertion (A).	P-127-II	1	
Q11.	Where was the Afro-Asian Conference held in 1955 ? (A) Jakarta (B)Bandung (C) Bali (D) Java		1	
Ans	(B)Bandung	P-58-I	1	
Q12.	To which state of India does the Dimasa community belong ? (A) Mizoram (B) Tripura (C) Assam (D) Manipur		1	
Ans	(C) Assam	P-127-II	1	
SECTION – B				
Q13.	Explain any two reasons for protests by the people of East Pakistan against West Pakistan prior to the creation of Bangladesh.		2	2



Ans	Reasons:- (i) Domination of West Pakistan on East Pakistan and imposition of Urdu language on East Pakistan. (ii) Unfair treatment meted out to the Bengali culture and language (iii) Unfair representation of East Pakistan in administration and political power. (iv) The domination of West Pakistan led to the popular struggle by Mujib-ur-Rahman in East Pakistan against this unfair treatment. (or any other relevant reason) (any two)	P-32-I	2x1=	2
Q14.	How is 'global poverty' a new source of threat to security in the contemporary world ? Explain.		2	2
Ans	Global poverty is a new source of threat to Human security as - (i) Population is expected to triple in the next 50 years. World population—now at 760 crore— will grow to nearly 1000 crore by the middle of the 21st century. Rise in population will consume more resources that would lead to poverty. (ii) Many rich countries may see shrinkage of population. It will make rich states richer and poor states, with large populations, poorer. This disparity will create huge gap. (iii) Economic disparity between Northern and Southern countries involves a lot of problems. Any other point (any two)	P-73-I	2x1=	2
Q15.	Highlight any two factors that contributed towards the development of consensus around the need for planned development in India.		2	2
Ans	Consensus developed around the need of planned development on the following factors- (i) Most of the stakeholders agreed that development could not be left only to private actors. (ii) Even industrialists agreed that the task of poverty alleviation, social and political redistribution was the main responsibility of the government which should plan a road map for the development. (iii) Industrialists gave the 'Bombay plan' which supported planned development . (iv) Most of the political leaders favoured planned development. (any two)	P-46,47-II	2x1=	2
Q16.	Why was holding of the first general elections in 1952 a great challenge for the Election Commission of India ? Explain.		2	2
Ans	Challenges for the Indian Election Commission were : i) Big size of the country and electorate-17 crores voters.			



	<p>ii) Most of the voters were poor and illiterate. It was not easy to hold a free and fair election.</p> <p>iii) Till then democracy had existed only in prosperous countries and many countries had not given voting rights to all women. In this context India's experiment with universal adult franchise appeared very bold and risky.</p> <p>iv) Preparation of electoral roll was a mammoth exercise.</p> <p>v) The Election Commission had to train over one lakh officers for polling .</p> <p>(any other) (any two)</p>	P-30-II	2x1=	2
Q17.	How do economic growth and democracy help India in providing greater security ? Explain.		2	2
Ans	Economic growth and democracy help India in providing greater security in different ways. There has been an attempt to develop economy to lift vast mass of citizens out of poverty and misery end huge economic inequalities. Democracy in India believes in resolving the issues and taking care of the regional aspirations, which provides human security. Here people have the right to voice their problems and demands before the government.	P-77-I	2	2
Q18.	Name any four Prime Ministers of India who remained in power for less than a year.			2
Ans	<p>(i) Gulzari Lal Nanda</p> <p>(ii) Charan Singh</p> <p>(iii) V. P. Singh</p> <p>(iv) Chandra Shekhar</p> <p>(v) H.D. Deve Gowda</p> <p>(vi) Inder Kumar Gujral</p> <p>(any four)</p>	P-143-I	4x½ =	2
SECTION C				
Q19.	Analyse the impact of the Chinese Invasion of 1962 on the political situation in India.			4
Ans	<p>1.It dented the India's image at home and abroad.</p> <p>2. The Defence Minister V Krishna Menon had to resign from the cabinet .Some top army commanders were removed.</p> <p>3. For the first time a no-confidence motion was moved against the government and debated in Lok Sabha.</p> <p>4. Congress Party lost some key By-elections to Lok Sabha.</p> <p>5.Sino-Indian conflict affected the opposition parties in India.</p> <p>Differences developed within the Communist Party of India.</p> <p>6.Indian leadership got alerted to the volatile situation in Northeast region.</p> <p>(any two)</p>	P-62,63-I	2x2=	4



Q20.	Explain any two reasons for disintegration of the Soviet Union.			4
Ans	<p><u>Reasons responsible for Disintegration of U.S.S.R:</u></p> <p>i) Internal weakness of Soviet political and economical institutions.</p> <p>ii) Economic stagnation for many years.</p> <p>iii) Soviet Union used much of its resources in maintaining Nuclear and military arsenals.</p> <p>iv) Communist party was not accountable to the people.</p> <p>v) Ordinary people became knowledgeable about the technology and the economic advancement of the West.</p> <p>vi) Corruption was rampant in the administration.</p> <p>vii) The Soviet Union had become stagnant in administrative and political field.</p> <p>viii) The system was unwilling to allow openness.</p> <p>ix) Reforms introduced by Mikhail Garbachav led to the demand of quick results.</p> <p style="text-align: right;">(any two reasons)</p>	P-4,5-I	2x2=	4
Q21.	<p>(a) “India enjoys a very special relationship with Bhutan.” Support the statement with two examples.</p> <p style="text-align: center;">OR</p> <p>(b) Analyse any two reasons for the problems that India has with its smaller neighbours.</p>			4
Ans	<p>(a)</p> <p>India – Bhutan Relationship-</p> <p>i. India enjoys a very special relationship with Bhutan and does not have any major conflict with the Bhutanese government. The efforts made by the Bhutanese monarch to weed out guerrillas and militants from northeastern India that operate in his country ,have been helpful to India.</p> <p>ii. India is involved in big hydroelectric projects in Bhutan and is the biggest source of development aid to Bhutan.</p> <p>Any other relevant point (any two)</p> <p style="text-align: center;">OR</p> <p>(b) Reasons for the problems that India has with its smaller neighbours-</p>	P-41-I	2x2=	4
			2x2=	

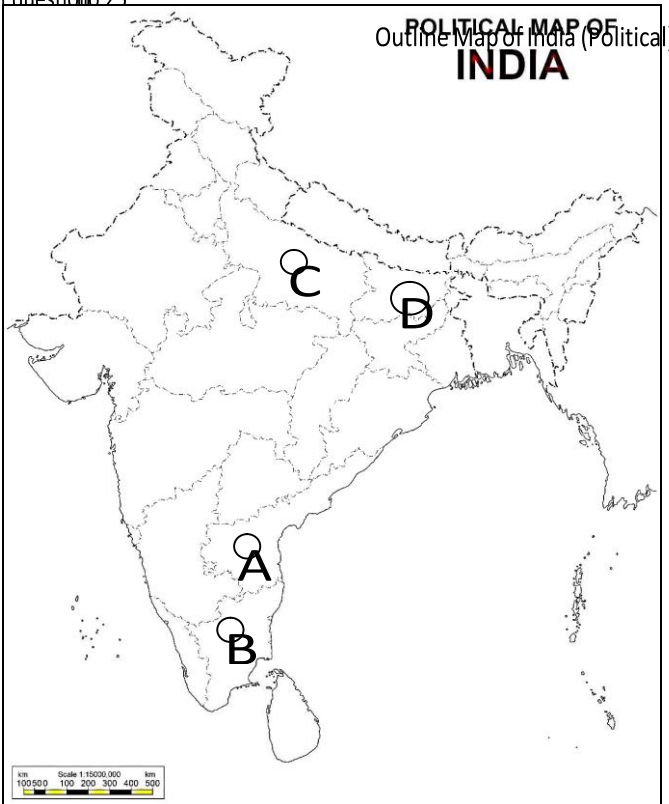
	<p>i. Given its size and power, they are bound to be suspicious of India's intentions. The Indian government, on the other hand, often feels exploited by its neighbours.</p> <p>ii. India does not like political instability in these countries, fearing it can help outside powers to gain influence in the region.</p> <p>iii. The smaller countries have a fear that India wants to be a regionally-dominant power, but India is always helpful to all the neighbouring countries.</p> <p style="text-align: right;">(any two reasons)</p>	P-41,I		4
<p>Q22. (a)</p> <p>Explain India's role in resisting globalisation.</p> <p style="text-align: center;">OR</p> <p>(b)</p> <p>Explain the changing role of states in the light of globalisation.</p>				4
<p>Ans (a)</p> <p>India's role in resisting globalisation –</p> <p>i. Resistance to globalisation in India has come from different quarters. There have been left wing protests to economic liberalisation voiced through left political parties as well as through forums like the Indian Social Forum.</p> <p>ii. Trade unions of industrial workforce as well as those representing farmer interests have organised protests against the entry of multinationals in India.</p> <p>iii. The patenting of certain plants like Neem by American and European firms has also generated considerable opposition.</p> <p>iv. Resistance to globalisation has also come from the political rightists.</p> <p>v. Resistance is also due to cultural influence of globalisation on Indian people, festivals, foods and dresses.</p> <p style="text-align: right;">(any four)</p> <p style="text-align: center;">OR</p> <p>(b)</p> <p>Changing role of states-</p> <p>i. All over the world, the old 'welfare state' is now giving way to a more minimalist state.</p> <p>ii. Now states perform only certain core functions such as the maintenance of law and order and the security of its citizens.</p>		P-111-I	4x1=	4
			4x1=	4

	<p>iii. In place of the welfare state, market has become the prime determinant of economic and social priorities.</p> <p>iv. At the same time, globalisation does not always reduce state capacity. The primacy of the state continues to be the unchallenged basis of political community.</p> <p>v. In some respects state capacity has received a boost as a consequence of globalisation, with enhanced technologies available at the disposal of the state to collect information about its citizens.</p> <p>vi. States become more powerful than they were earlier as an outcome of the new technology.</p> <p>Or any other relevant point (any four)</p>	P-103-104-I		
Q23.	“Regional aspirations are very much a part of democratic politics.” Justify the statement.			4
Ans	<ul style="list-style-type: none"> Regional aspirations are very much a part of democratic politics. Democracy in India allows the political expressions of regional aspirations and does not look upon these as anti-national. Democratic politics among parties and groups addresses the people on the basis of their regional identity, aspirations and specific regional problems. The process strengthens regional aspirations. Democratic politics means that any regional issue and problem would receive adequate attention and accommodation in policy making process. These arrangements may sometimes lead to tension and problems. Expression of regional aspirations and efforts to get them fulfilled is the process which reduces the chances of revolution and unrest. <p>Or any other relevant point (assess as a whole)</p>	P-84,85-I	4	4
SECTION D				
Q24.	<p>Read the given passage carefully and answer the questions that follow :</p> <p>‘Commons’ are those resources which are not owned by anyone but rather shared by a community. This could be a ‘common room’ or a ‘community centre’, a park or a river. Similarly, there are some areas or regions of the world which are located outside the sovereign jurisdiction of any one state and therefore, require common governance by the international community. These are known as ‘Global Commons’.</p> <p>(i) Which one of the following aspects best describes the ‘Global Commons’ ?</p>		4x1=	4



- (i) The State to which the former Prime Minister Lal Bahadur Shastri belonged.
- (i) The State to which the former Chief Minister Karpoori Thakur belonged.
- (ii) The State to which the former Chief Minister C. Natarajan Annadurai belonged.
- (iii) The State to which the former President of India V.V. Giri belonged.

For question no 25



Ans	Serial number of the information used	Concerned alphabet given in the map	Name of the State	P-74,78,82,83-II	4x1	4
	(i)	C	Uttar Pradesh			
	(ii)	D	Bihar			
	(iii)	B	Tamil Nadu			
	(iv)	A	Andhra Pradesh			

Note : The following questions are for the Visually Impaired Candidates only, in lieu of Q. No. 25 :

- (25.1) Name the State to which the former President of India V.V. Giri belonged.
- (25.2) Name the State to which the former Chief Minister K. Kamaraj belonged.
- (25.3) Name the State to which the former Chief Minister Karpoori Thakur belonged.

(25.4) Name the State to which the former Prime Minister Lal Bahadur Shastri belonged.

Note: The following questions are only for the Visually Impaired Candidates in lieu of Q. No. 25

- 25.1 Andhra Pradesh
- 25.2 Tamil Nadu
- 25.3 Bihar
- 25.4 Uttar Pradesh

(any one)

4x1= 4

**Q26. Study the cartoon given below carefully and answer the questions that follow :
(The cartoon is related to China)**



1+1+2 = 4

(i) Identify and name the leader who is holding the 'Red Book'.

(ii) What ideological change took place in China from the 'Red Book' (Then) to the 'Red Tie' (Now) ?

(iii) Explain any two economic changes that took place in China between 'then' and 'now'.

(i) Mao

P-24-I

1

(ii) Shift from closed economy to open economy

1

- (iii)
- China ended its political and economic isolation and established relations with the US in 1972.
 - Premier Zhou Enlai proposed the four modernisations – agriculture, Industry, Science and Technology and Military in 1973.
 - Deng Xiaoping announced open door policy and economic reforms in China.
 - Sez's were established.

2

4

	Or any other relevant change (any two changes)			
	<p>Note :The following questions are for the Visually Impaired Candidates only, in lieu of Q. No. 26 :</p> <p>(26.1) In which year was the privatisation of agriculture introduced in China ?</p> <p>(26.2) Name the leader who led the Communist revolution in China.</p> <p>(26.3) Explain any two factors responsible for the growth of Chinese economy.</p>		1+1+2 =	4
	<p><u>Note : The following questions are for Visually Impaired Candidates only, in lieu of Q. no. 26.</u></p> <p>26.1 1982</p> <p>26.2 Mao</p> <p>26.3</p> <ul style="list-style-type: none"> • Its economic integration with its neighbouring countries is responsible for the growth of Chinese economy. • The strength of China’s economy , together with other factors such as population , land mass, resources and political influences etc. are responsible for its economic growth. <p>Or any other relevant point</p>	P-3 -I	1 1 2	4
	SECTION E			
Q27.	Describe the process of evolution of European Union from an economic union to an increasingly political and military bloc.			6
(a)	OR			6
(b)	Describe any three objectives of the ASEAN.			
Ans	The process of evolution of European Union from an economic union to an increasingly political and military bloc started with the creation of the European Parliament.	16 to 18-I	6	6
(a)	<p>(i) EU has adopted a common own flag, anthem, founding date and currency Euro.</p> <p>(ii) EU also has some form of a common foreign and security policy in its dealings with other nations.</p> <p>(iii) EU has tried to expand areas of cooperation while acquiring new members, especially from the erstwhile Soviet bloc.</p> <p>(Assess as a whole)</p> <p style="text-align: center;">OR</p>			



(b)	<p>Three objectives of ASEAN-</p> <p>I.To accelerate economic growth through ‘social progress and cultural development’.</p> <p>II.To promote regional peace and stability based on the rule of law and the principles of the United Nations Charter.</p> <p>III.ASEAN countries follow an interaction that came to be known as the ‘ASEAN WAY’. It is informal, non-confrontationist and cooperative.</p> <p>IV. To have respect for national sovereignty of the member countries.</p> <p>Or any other relevant point</p> <p style="text-align: right;">(Any Three)</p>	20-1	3x2 =	6
Q28. (a)	<p>Explain the relevance of the United Nations in the contemporary world.</p> <p style="text-align: center;">OR</p>			6
(b)	<p>“The Security Council lacks equitable representation.” In the light of the above statement, explain the need for restructuring the United Nations.</p>			6
Ans (a)	<p>Relevance of the United Nations in the Contemporary world-</p> <ul style="list-style-type: none"> • UN has the objective to prevent the International conflicts and to facilitate cooperation among the states. • It has worked to stop or prevent wars. • Some countries think that the UN could cope better with a world in which the US is the most powerful country, without any serious rivals. • The UN can and has served to bring the US and the rest of the world into discussions over various issues. • US leaders, in spite of their frequent criticism of the UN, do see the organization as serving a purpose in bringing together over 190 nations in dealing with conflict and social and economic development. • For the rest of the world, the UN provides an arena in which it is possible to modify US attitudes and policies. • The UN is an imperfect body but without it the world would be worse off. As technology increases planetary interdependence, the importance of the UN will increase. Hence this organisation is very relevant. <p>(Assess as a whole) (any three)</p> <p style="text-align: center;">OR</p>	58 to 60-1	6x1=	6
(b)	<p>The need for restructuring the United Nations:-</p> <ul style="list-style-type: none"> • The Security Council no longer represents the contemporary political realities. • Its decisions reflect only Western values and interests and are dominated by a few big powers. • It lacks equitable representation with no representation from Latin America and Africa as far as permanent members are concerned. 	52-1	6	6



	<ul style="list-style-type: none"> Permanent members of the UN have Veto power but non-permanent members do not have such power. (Evaluate as a whole) 			
Q29.				
(a)	Analyse any four consequences of the partition of British India in 1947.			6
	OR			6
(b)	Analyse the events that led to the merger of Manipur into the Union of India.			
Ans				
(a)	<p>Consequences of the partition of British India in 1947 are:-</p> <p>(i) It was the largest, unplanned, most abrupt and tragic transfer of people.</p> <p>(ii) Killings and atrocities on both sides of the border, in the name of religion and community.</p> <p>(iii) Cities like Lahore, Amritsar and Kolkata got divided in communal zones.</p> <p>(iv) People were forced to abandon their home and move across border with immense sufferings.</p> <p>(v) Minorities on both side had to secure temporary shelter in refugee camps. Refugees had to suffer great loss and ill effects of violence.</p> <p>(vi) Lakhs of people were killed, women were killed, abducted and raped on both the sides of border.</p> <p>(vii) People were forced to convert religion.</p> <p>(viii) Many women were killed by their family members to preserve the 'family honour'. Children got separated from parents and become homeless.</p> <p>(To be analysed)</p> <p style="text-align: right;">(any four)</p> <p style="text-align: center;">OR</p>	Pg 9-II	4x1½ =	6
(b)	<p>The events that led to the merger of Manipur into the Union of India are:-</p> <p>(i) A few days before Independence, the Maharaja of Manipur, Bodhachandra Singh, signed the Instrument of Accession with the Indian government on the assurance that Internal autonomy of Manipur would be maintained.</p> <p>(ii) Under the pressure of public opinion the Maharaja held elections in Manipur in June 1948 and the state became a constitutional monarchy.</p> <p>(iii) Manipur was the first part of India to hold an election based on universal adult franchise.</p> <p>(iv) The government succeeded in pressurising the Maharaja into signing a Merger Agreement in Sept 1949, without consulting the popularly elected legislative Assembly. Thus Manipur was merged into the Union of India.</p> <p>(Assess as a whole)</p>	P-18-II	6	6
Q30.				
(a)	Describe any four major political developments that took place in India from 1989 to 1999.			6
	OR			
(b)				6



	Describe any four issues on which consensus has emerged among most political parties of India.			
Ans				
(a)	<p>Four major political developments that took place in India from 1989 to 1999 are:-</p> <p>I. Defeat of the Congress party in the Lok Sabha elections held in 1989.</p> <p>II. Rise of the 'Mandal issue' in national politics.</p> <p>III. New economic reforms or the structural adjustment programme</p> <p>IV. Rise of the BJP and the politics of 'Hindutava'.</p> <p>V. Assassination of Rajiv Gandhi in May 1991.</p> <p>(Any Four with explanation)</p> <p style="text-align: center;">OR</p>	P-137-139-II	4x1 ½ =	6
(b)	<p>Four issues on which consensus has emerged among most political parties of India-</p> <p>I. Agreement on new economic policies for the prosperity and status of economic power of India in the world.</p> <p>II. Acceptance of the political and social claims of the other backward classes (OBC).</p> <p>III. Acceptance of the State level parties in governance of the country.</p> <p>IV. Emphasis on pragmatic considerations rather than ideological positions and political alliances without ideological agreement.</p> <p>(Any Four with explanation)</p>	P-153, 155-II	4 x1½ =	6

